

7/4/2020

ΧΑΤΖΗΜΠΕΗ ΧΡΙΣΤΙΝΑ

Καλησπέρα σας παιδιά! Ελπίζω να είστε όλοι και όλες καλά! Σύντομα θα περάσει όλο αυτό και θα ξανά είμαστε όλοι μαζί στο σχολείο μας! Να είστε καλά και να χαμογελάτε!

Έρθε η ώρα να κάνουμε λίγα Μαθηματικά και να θυμηθούμε τα κέρματα και χαρτονομίσματα του ευρώ και πως υπολογίζουμε τα ρέστα μας. Εάν δεν τα θυμάσαι, μην αγχώνεσαι ! Μπορείς να ανοίξεις το βιβλίο των Μαθηματικών σου στην 2η Ενότητα, στο μάθημα 11 και 12 με τίτλο «Γνωρίζω καλύτερα τα κέρματα του Ευρώ» και «Υπολογίζω τα ρέστα».

Πάμε να τα δούμε και μαζί...

# Θυμάμαι τα κέρματα του ευρώ



# Θυμάμαι τα χαρτονομίσματα του ευρώ




## ☀ Στο μαγαζάκι



9 ευρώ



7 ευρώ



5 ευρώ



8 ευρώ

Διάλεξε και πάρε ότι χρειάζεσαι από το μαγαζάκι! Να μην ξεχάσεις πως έχεις μαζί σου 40 ευρώ! Τι θα αγόραζες; Και πόσα ρέστα θα έπαιρνες;

Λύνω:

.....

.....

.....

.....

.....

Απαντώ:

.....

.....

.....

.....






.....

## ☀️ Ωρα για σνακ!

Η βόλτα στην αγορά σου άνοιξε την όρεξη!  
Είναι ώρα για σνακ.

Χρησιμοποίησε το μενού και υπολόγισε την τιμή.

 Ζεστή σοκολάτα 6€	 Σούπα 7€	 Μπανάνα 6€
 Γάλα 9€	 Cheeseburger 10€	 Γλειφιτζούρι 5€
 Χυμός μήλου 7€	 Τοστ 9€	 Κέικ 8€

Παραγγελία	Τιμή
	___ + ___ = ___
	___ + ___ = ___
	___ + ___ + ___ = ___
	___ + ___ + ___ = ___
	___ + ___ + ___ = ___

Εσύ ποιο μενού θα διάλεγες; 😊

.....

.....

Πολύ ωραία! 😊

Τώρα θυμήσου πόσα ρέστα σου είχαν περισσέψει από την βόλτα στην αγορά.

.....  
Μπορείς με αυτά τα χρήματα να αγοράσεις το μενού που έχεις επιλέξει; Εάν ναι, πόσα ρέστα θα πάρεις; Εάν όχι, πόσα χρήματα χρειάζεσαι ακόμα για να φτάσεις το ποσό του μενού;

ΛΥΝΩ:

.....  
.....  
.....

ΑΠΑΝΤΩ:

.....  
.....  
.....

Σας  
ευχαριστώ για το χρόνο σας! 😊

Η εκπαιδευτικός,  
Χατζημπέη Χριστίνα