


Μακεδονία



Να γράψετε τους Νομούς του γεωγραφικού διαμερίσματος της Μακεδονίας.



1).....

7).....

2).....

8).....

3).....

9).....

4).....

10).....


5).....

11).....

6).....

12).....

13).....




Η Μακεδονία είναι το μεγαλύτερο γ..... δ..... της ηπειρωτικής Ε..... Αποτελείται από νομούς: τον νομό Δ..... με πρωτεύουσα τη Δ....., τον νομό Κ..... με πρωτεύουσα την Κ....., τον νομό Σ..... με πρωτεύουσα τις Σ....., τον νομό Θ..... με πρωτεύουσα τη Θ....., τον νομό Χ..... με πρωτεύουσα τον Π....., τον νομό Π..... με πρωτεύουσα την Κ....., τον νομό Η..... με πρωτεύουσα την Β....., τον νομό Κ..... με πρωτεύουσα το Κ....., τον νομό Π..... με πρωτεύουσα την Ε....., τον νομό Φ..... με πρωτεύουσα τη Φ....., τον νομό Κ..... με πρωτεύουσα την Κ....., τον νομό Κ..... με πρωτεύουσα την Κ..... και τον νομό Γ..... με πρωτεύουσα τα Γ.....

Εκτείνεται ανάμεσα στην οροσειρά της Π..... και τον ποταμό Ν....., ενώ στον βορρά συνορεύει με τη Β..... και την ΠΓΔΜ. (Πρώην Γιουγκοσλαβική Δημοκρατία της Μακεδονίας), στα ανατολικά συνορεύει με τη Θ....., στα δυτικά με την Η..... και την Α..... Στα νότια συνορεύει με τη Θ..... και βρέχεται από το Αι..... πέλαγος.

Να γράψετε τα σημαντικότερα βουνά, ποτάμια, λίμνες, νησιά, της Μακεδονίας

- Βουνά.....
-
- Ποτάμια.....
-
- Λίμνες.....
-
- Νησιά.....



Να γράψετε κάποια μέρη που θα άξιζε να επισκεφτεί ένας ξένος στον τόπο της Μακεδονίας.

-
-
-
-
-
-
-
-

