

Όνομα:

Ημερομηνία:


10. Προβλήματα με δεκαδικούς (α)

1. Στρογγυλοποίησε τους επόμενους αριθμούς στον πλησιέστερο ακέραιο αριθμό.

17,73 →
10,11 →
41,77 →

23,24 →
8,009 →
40,14 →

99,099 →
808,505 →
101,101 →



2. Τι είναι μεγαλύτερο: το μισό του 1.589 ή το ένα δέκατο του 8.012;

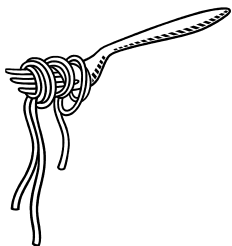
Εκτίμηση:

Με ακρίβεια:



Απάντηση:

3. Υπολόγισε με εκτίμηση την αξία που έχουν 7 πακέτα μακαρόνια που το καθένα κοστίζει 71 λεπτά.



Απάντηση:

4. Ένα βαρέλι περιέχει 176 κιλά λάδι και για να γεμίσει χρειάζονται 23,750 κιλά ακόμα. Πόσα κιλά λάδι χωράει το βαρέλι;

ΛΥΣΗ



Απάντηση:

5. Η Δήμητρα αγόρασε ένα βιβλίο αξίας 14,72 €, μία κασετίνα αξίας 11,65 € και ένα κουτί μαρκαδόρους αξίας 2,84 €. Πόσα χρήματα έδωσε η Δήμητρα για όλα μαζί τα πράγματα που αγόρασε;


ΛΥΣΗ



Απάντηση:

6. Τα παιδιά του σχολείου μας μάζεψαν 8,640 κιλά αλουμινίου, 34,780 κιλά γυαλιού και 16,096 κιλά χαρτιού και τα έδωσαν για ανακύκλωση. Πόσο ήταν το συνολικό βάρος των υλικών που δόθηκαν για ανακύκλωση;

ΛΥΣΗ



Απάντηση: