





ΔΗΜΟΤΙΚΟ ΣΧΟΛΕΙΟ

Όνομα: _____ Τάξη: _____

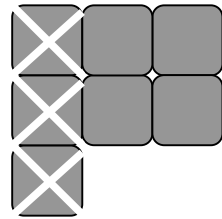
1. Συμπλήρωσε:



- =



- =



-




- =

2. Σχεδιάσε μια εικόνα για την μαθηματική πρόταση

6 - 2 = 8

5 + 4 = 9



3. Συμπλήρωσε τους αριθμούς που λείπουν



$$\boxed{5} + \boxed{3} = \boxed{}$$

$$\boxed{8} - \boxed{3} = \boxed{}$$

$$\boxed{3} + \boxed{} = \boxed{8}$$

$$\boxed{8} - \boxed{} = \boxed{3}$$

4. Γράψε τους αριθμούς που λείπουν

$$10 - 3 = \boxed{}$$

$$8 - \boxed{} = 6$$

$$\boxed{} - 5 = 1$$

$$5 - 2 = \boxed{}$$

$$9 - \boxed{} = 3$$

$$\boxed{} - 2 = 2$$

$$4 + 4 = \boxed{}$$

$$7 + \boxed{} = 10$$

$$\boxed{} - 4 = 3$$

$$3 + 3 = \boxed{}$$

$$5 + \boxed{} = 9$$

$$\boxed{} + 3 = 5$$

$$5 + 4 = \boxed{}$$

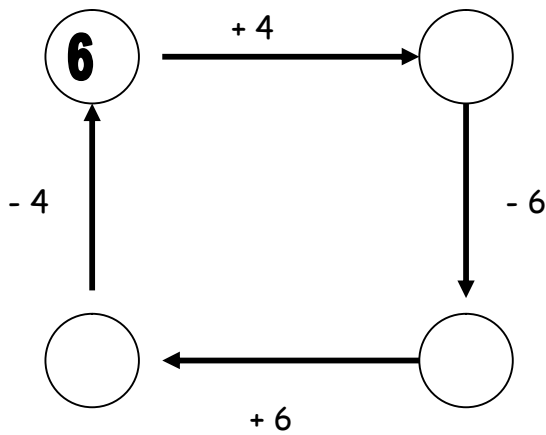
$$3 + \boxed{} = 9$$

$$\boxed{} + 1 = 7$$

Παιδιά,
βοήθειασσα!!



5. Γράψε στους κύκλους τους αριθμούς που λείπουν



8. Γράψε 4 διαφορετικές μαθηματικές προτάσεις χρησιμοποιώντας τους πιο κάτω αριθμούς 7, 3, 10

$$\boxed{} + \boxed{} = \boxed{}$$

$$\boxed{} + \boxed{} = \boxed{}$$



Μπράβο, τα
πήγατε περίφημα!
Είστε σαΐνια!

$$\boxed{} - \boxed{} = \boxed{}$$

$$\boxed{} - \boxed{} = \boxed{}$$