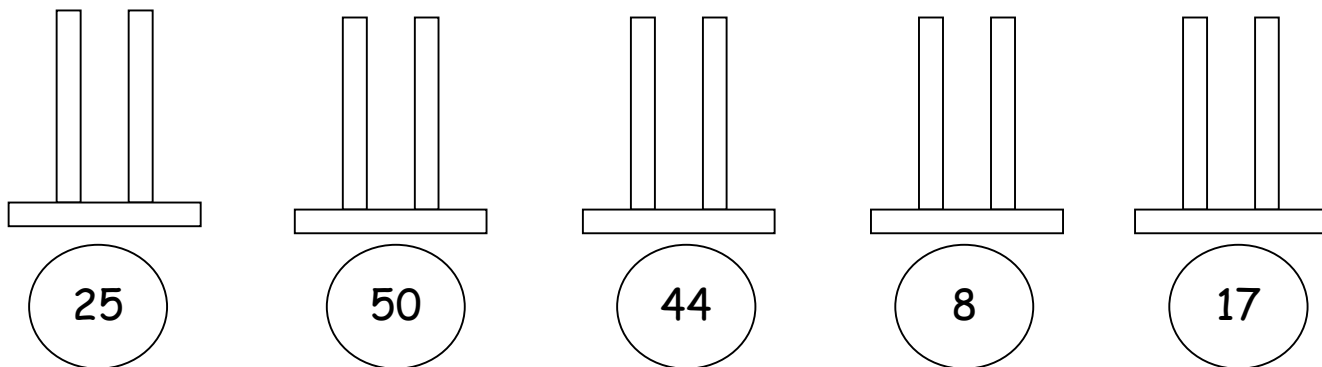






ΟΝΟΜΑ: _____

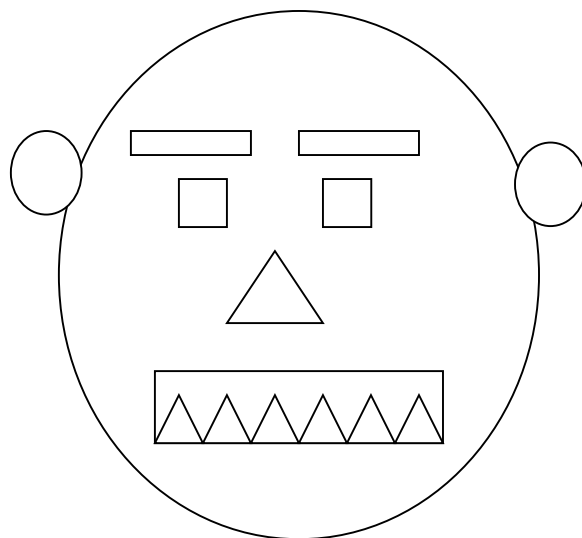
ΜΑΘΗΜΑΤΙΚΑ 6^η ΕΝΟΤΗΤΑ
Κεφ. 43 Επαναληπτικό μάθημα

1. Σχηματίζω τους αριθμούς στους άβακες.



2. Μετρώ τα σχήματα που μοιάζουν μεταξύ τους και γράφω τους αντίστοιχους αριθμούς.

Υπάρχουν _____ 
Υπάρχουν _____ 
Υπάρχουν _____ 
Υπάρχουν _____ 



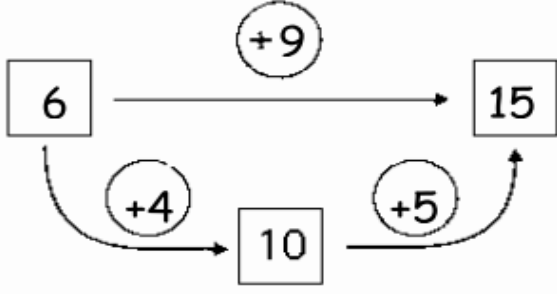
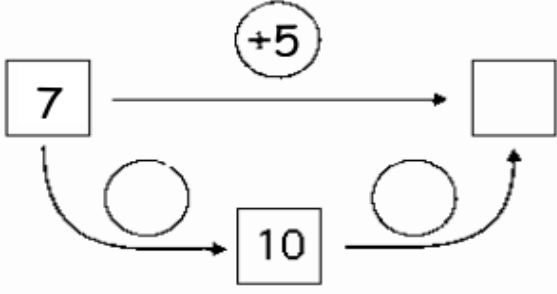
3. Συμπληρώνω τα ημερολόγια.

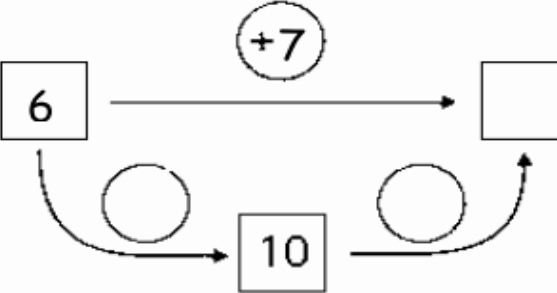
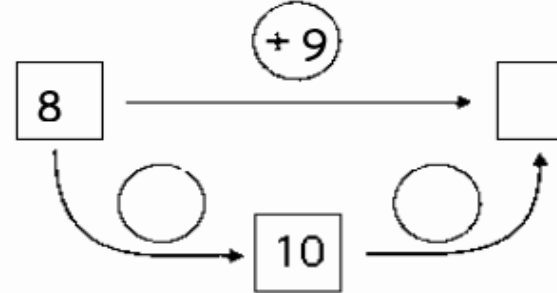
Τρίτη

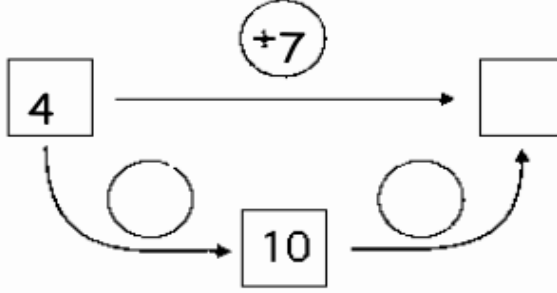
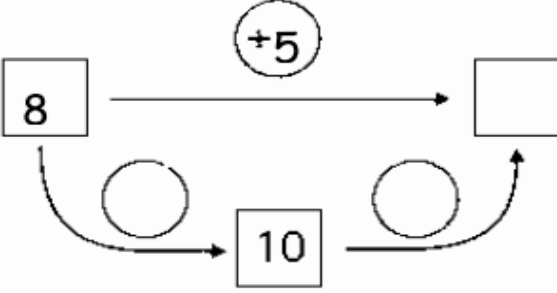
4

Μαρτίου

4. Υπολογίζω και συμπληρώνω τους αριθμούς που λείπουν.

$6+9=15$	$7+5=\square$
	

$6+7=\square$	$8+9=\square$
	

$4+7=\square$	$8+5=\square$
	

5. Κάνω τις παρακάτω πράξεις.

$4 + 8 =$

$7 + 6 =$

$6 + 6 =$

$9 + 6 =$

$7 + 8 =$

$3 + 9 =$

$5 + 8 =$

$7 + 4 =$

$9 + 4 =$

