













ΟΝΟΜΑ

Ενότητα 33^α

Βοήθησε τους αστυνομικούς να συλλάβουν τους κλέφτες. Αντιστοίχισε όσα είναι ίσα, όπως στο παράδειγμα:

					
400 : 10	300 : 100	500 : 10	400 : 100	500 : 100	300 : 10
4	50	40	5	30	3
					

Η Μαργαρίτα δυσκολεύεται με τους πολλαπλασιασμούς και τις διαιρέσεις. Για να τη βοηθήσεις, κάνε τις παρακάτω πράξεις:



α. $18 \times 10 =$	στ. $180 : 10 =$
β. $19 \times 10 =$	ζ. $190 : 10 =$
γ. $16 \times 100 =$	η. $1.600 : 100 =$
δ. $24 \times 10 =$	θ. $240 : 10 =$
ε. $12 \times 100 =$	ι. $1.200 : 100 =$



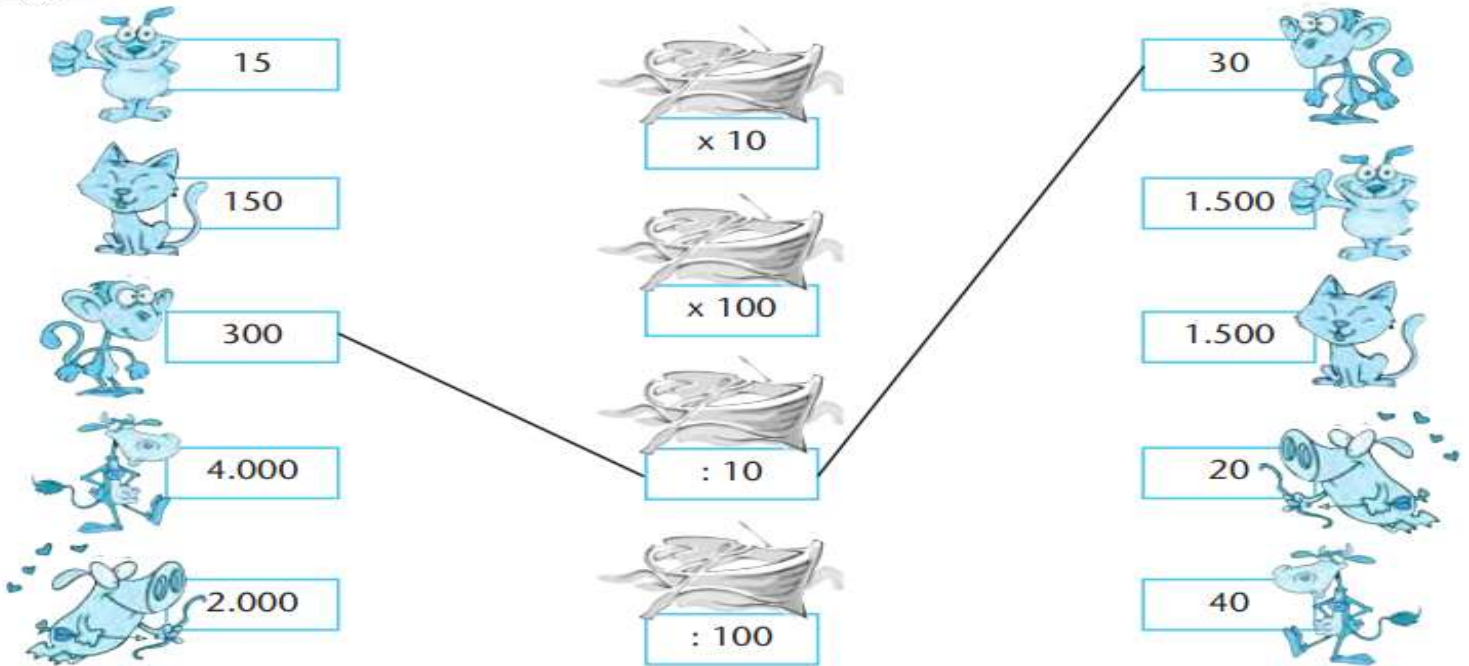
Συμπλήρωσε τους αριθμούς που λείπουν στα παρακάτω αριθμητικά μοτίβα:

3.000	2.800	2.600						
50	200	350						

ΟΝΟΜΑ

Ενότητα 33^β

Με ποια βαρκούλα πρέπει να περάσει απέναντι κάθε ζωάκι έτσι ώστε να βρει το...
ταίρι του; Αντιστοίχισε όπως στο παράδειγμα:



Ο κ. Μηνάς έχει στην αποθήκη του 18 σακιά αλεύρι. Πόσα κιλά αλεύρι έχει συνολικά;

Λύση

Κάθε σακί περιέχει
10 κιλά αλεύρι.

Απάντηση:



Κάθε σελίδα στο άλμπουμ της Μαρίνας περιέχει 10 αυτοκόλλητα. Πόσες σελίδες
πρέπει να γεμίσει ακόμη για να έχει συνολικά 600 αυτοκόλλητα;

Λύση

Μέχρι τώρα έχω γεμίσει
32 σελίδες...

Απάντηση:

