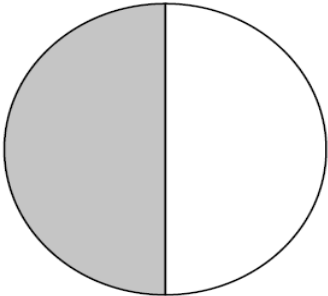
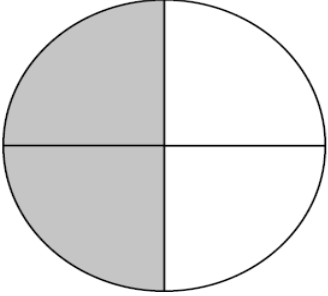
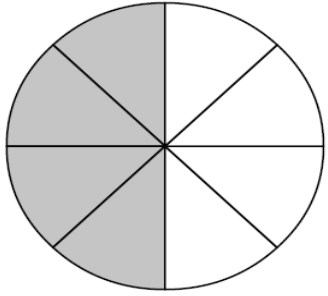



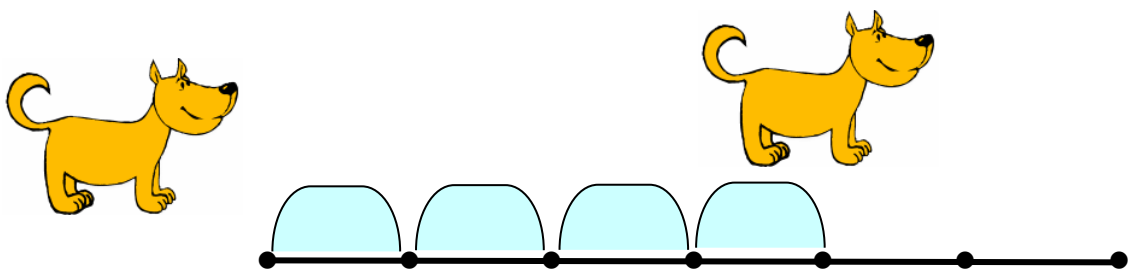
Ισοδύναμα κλάσματα

Όνομα:.....

1. Συμπλήρωσε τις ισότητες

$\frac{1}{2}$	$\frac{2}{4}$	$\frac{4}{8}$
		
$\frac{1}{2} = \frac{\square}{4}$	$\frac{2}{4} = \frac{\square}{2}$	$\frac{4}{8} = \frac{\square}{2}$
$\frac{1}{2} = \frac{\square}{8}$	$\frac{2}{4} = \frac{\square}{8}$	$\frac{4}{8} = \frac{\square}{4}$

2. Παρατηρώ τις εικόνες και απαντώ στις ερωτήσεις:



* Τι μέρος της διαδρομής διάνυσε ο σκύλος;

.....

* Τι μέρος της διαδρομής διάνυσε ο λαγός;

.....

* Ποιο ζώο διάνυσε το μεγαλύτερο μέρος της διαδρομής και γιατί;

.....