





Παρατηρώ τον πίνακα του Θεόφιλου και βάζω σε **κύκλο** τον σωστό αριθμό



➤ πόσες		➔	<b>2</b>	<b>3</b>	<b>4</b>
➤ πόσα		➔	<b>2</b>	<b>5</b>	<b>6</b>
➤ πόσες		➔	<b>2</b>	<b>5</b>	<b>6</b>
➤ πόσοι		➔	<b>0</b>	<b>1</b>	<b>2</b>