


Όνομα: _____

1. Πόσο κάνει;



$6+4+3=$ _____

$5+5+7=$ _____

$20+3=$ _____

$5+5+7=$ _____

$3+7+1=$ _____

$30+6=$ _____

$8+2+4=$ _____

$2+8+9=$ _____

$20+4=$ _____

$7+3+9=$ _____

$9+1+4=$ _____

$10+9=$ _____

$9+1+2=$ _____


$6+4+8=$ _____

$20+2=$ _____


2. Ο Βασίλης αγόρασε μία πίτσα και μία μακαρονάδα. Πόσα χρήματα πλήρωσε;

Λύση

$$\square \quad \square = \square$$



9 ευρώ



7 ευρώ

Απάντηση: _____

3. Συμπληρώνω το ημερολόγιο

| |
|-------|
| _____ |
| _____ |
| _____ |


| |
|-----------|
| Τρίτη |
| 14 |
| Μαρτίου |

| |
|---------|
| _____ |
| _____ |
| Μαρτίου |

| |
|--------|
| Πέμπτη |
| _____ |
| _____ |

4. Κάνε τις παρακάτω προσθέσεις σχηματίζοντας πρώτα μία δεκάδα.

| | |
|--------------|--------------|
| $6+5=$ _____ | $5+8=$ _____ |
| $7+6=$ _____ | $8+8=$ _____ |
| $8+6=$ _____ | $7+9=$ _____ |
| $9+3=$ _____ | $6+9=$ _____ |



5. Διαβάζω τις οδηγίες και σχηματίζω το δικό μου ανθρωπάκι

Κεφάλι → κύκλος

Μάτια → τετράγωνα

Μύτη → τρίγωνο

Στόμα → ορθογώνιο

Αυτιά → τρίγωνο

