


Κεφάλαιο 2 – Βασικά τμήματα υπολογιστή

1. Χρωμάτισε τα μέρη του υπολογιστή. Την οθόνη **κίτρινο**, τον πύργο **μπλε**, το πληκτρολόγιο **πράσινο** και το ποντίκι **κόκκινο**.



Εάν δεν με έχεις ζωγραφίσει ακόμη,
μπορείς να με ζωγραφίσεις τώρα.

2. Κύκλωσε τις λέξεις που αποτελούν μέρη του υπολογιστή.

Πύργος

Πλήκτρο

Αρουραίος

Πίνακας

Πληκτρολόγιο

Γάτα

Ακουστικό

Στυλό

Ηχείο

Οθόνη

Εκτυπωτής


Μολύβι

3. Ένωσε τα καλώδια για να λειτουργήσει ο υπολογιστής.



4

Συμπλήρωσε το όνομα
κάθε τμήματος του
υπολογιστή.



Ο_ _ Ν_ **ΟΘΟΝΗ**



_ Ο_ Τ_ _ Ι **ΠΟΝΤΙΚΙ**




Π_ Η_ _ Ρ_ Ο_ _ Γ_ _ **ΠΛΗΚΤΡΟΛΟΓΙΟ**



_ _ Ρ_ Ο_ **ΠΥΡΓΟΣ**

5. Βρες τα κρυμμένα τμήματα του υπολογιστή στην παρακάτω εικόνα.



6. Σωστό – Λάθος. Βάλε Σ δίπλα από κάθε σωστή πρόταση και Λ δίπλα από κάθε λανθασμένη.

A. Ο πύργος είναι το πιο σημαντικό τμήμα ενός υπολογιστή. **Σ**

B. Το πληκτρολόγιο μοιάζει με τηλεόραση. **Λ**

Γ. Το ποντίκι μας βοηθάει να δείχνουμε σε αντικείμενα της οθόνης. **Σ**

Δ. Το πληκτρολόγιο για τον υπολογιστή είναι όπως το μολύβι στο χαρτί. **Σ**

E. Με τα ηχεία μπορούμε να ακούσουμε μουσική στον υπολογιστή. **Σ**

ΣΤ. Το ποντίκι μπορεί να εκτυπώσει αυτά που βλέπουμε στην οθόνη. **Λ**

7. Ποιος είμαι?



A. Χρησιμοποίησε με για να δείξεις αντικείμενα στην οθόνη. **ΠΟΝΤΙΚΙ**

B. Δείχνω ταινίες, παιχνίδια και φωτογραφίες. **ΟΘΟΝΗ**

Γ. Χρησιμοποίησε με για να γράψεις. **ΠΛΗΚΤΡΟΛΟΓΙΟ**

Δ. Με χρειάζεσαι για να ακούσεις τραγούδια. **ΗΧΕΙΑ**

E. Είμαι το μυαλό του υπολογιστή. **ΠΥΡΓΟΣ**

8. Ζωγράφισε μια εικόνα ενός υπολογιστή. Προσπάθησε να συμπεριλάβεις όλα τα τμήματα που έμαθες. Στη συνέχεια γράψε δίπλα σε κάθε τμήμα το όνομά του.

Εάν δεν έχεις κάνει ακόμη τη ζωγραφιά σου, μπορείς να την κάνεις τώρα.