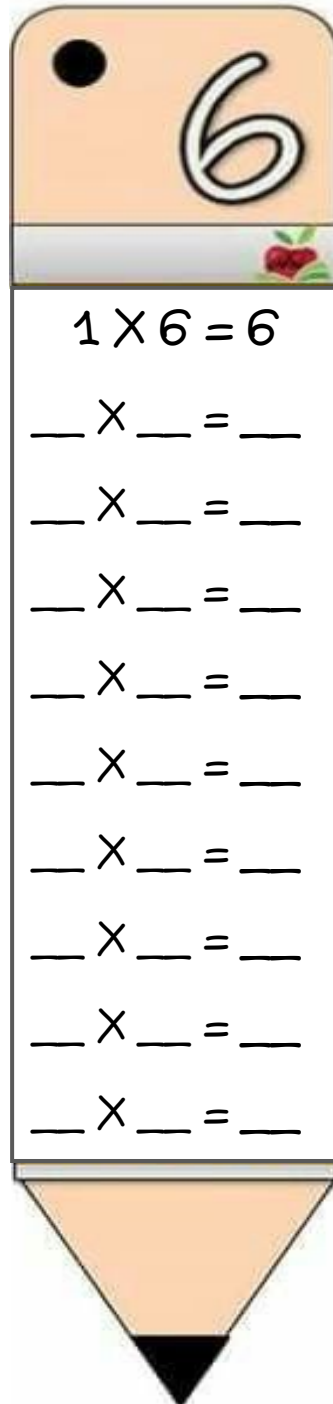
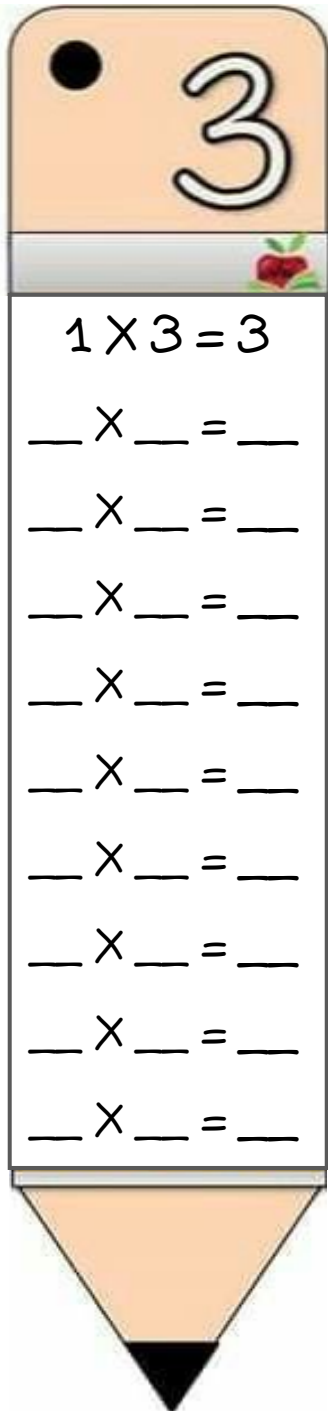


ΟΝΟΜΑ: _____

ΜΑΘΗΜΑΤΙΚΑ 4^η ΕΝΟΤΗΤΑ

Κεφ.28 Βρίσκω την προπαίδεια του 3 και του 6

1. Γράφω τις προπαίδειες του 3 και του 6 μέσα στα μολύβια.



Μάθε να λες τις
προπαίδειες απ' έξω
σαν ποιημάκι:

1 φορά το 3 τρία


....

1 φορά το 6 έξι

....



2. Συμπληρώνω τα παρακάτω μοτίβα με τα αποτελέσματα από τις προπαίδειες.



3. Υπολογίζω τους παρακάτω πολλαπλασιασμούς.

$3 \times 6 = \underline{\quad}$

$6 \times 3 = \underline{\quad}$

$6 \times 2 = \underline{\quad}$

$2 \times 6 = \underline{\quad}$

$4 \times 6 = \underline{\quad}$

$6 \times 4 = \underline{\quad}$

$9 \times 6 = \underline{\quad}$

$6 \times 9 = \underline{\quad}$

$4 \times 3 = \underline{\quad}$

$3 \times 4 = \underline{\quad}$

$5 \times 3 = \underline{\quad}$

$3 \times 5 = \underline{\quad}$

$8 \times 3 = \underline{\quad}$

$3 \times 8 = \underline{\quad}$

$3 \times 3 = \underline{\quad}$

$0 \times 3 = \underline{\quad}$

4. Λύνω τα παρακάτω προβλήματα:


A. Οι μαθητές της Β' τάξης σχημάτισαν 7 τριάδες; Πόσους μαθητές έχει η Β' τάξη συνολικά;



Υπολογίζω με πολλαπλασιασμό:

Απάντηση: _____

B. Η μαμά της Μαργαρίτας αγόρασε δύο εξάδες αυγά. Πόσα αυγά αγόρασε;



Υπολογίζω με πολλαπλασιασμό:

Απάντηση: _____
