



ΔΗΜΟΤΙΚΟ ΣΧΟΛΕΙΟ

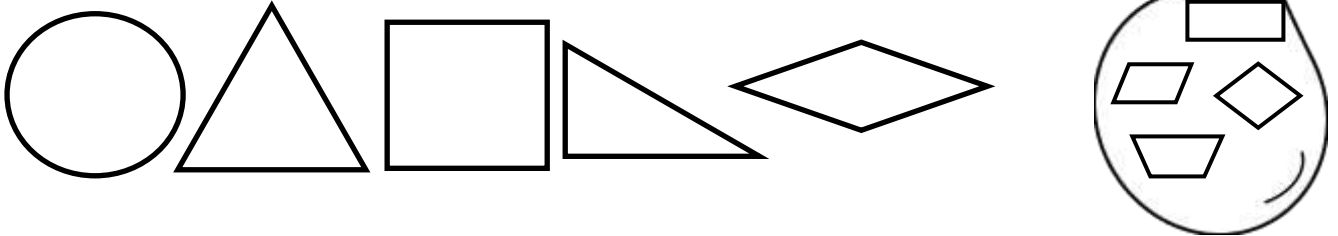
Όνομα: _____ Τμήμα: _____

Τι μάθαμε για τα σχήματα


1. Σχεδίασε τα πιο κάτω σχήματα:


τρίγωνο	τετράγωνο	κύκλος	τραπέζιο	ορθογώνιο	ρόμβος



2. Ποια από τα πιο κάτω σχήματα ταιριάζουν με τα σχήματα στο σακούλι;
Χρωμάτισέ τα.




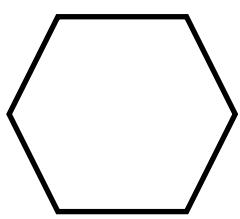

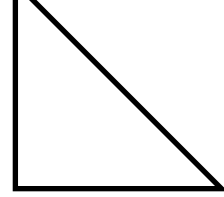
3. Βρες το σχήμα:

A)  Έχει 4 ίδιες πλευρές και 4 ορθές γωνίες. Ποιο σχήμα είναι; _____

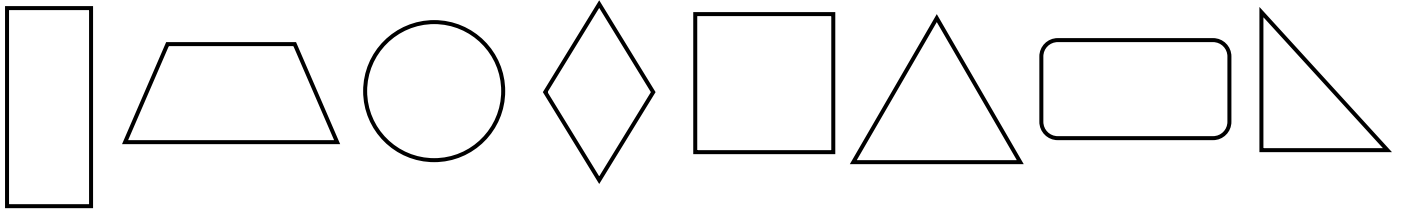
B)  Ποιο σχήμα δεν έχει καμιά πλευρά και καμιά γωνιά; _____

Γ)  Έχει 4 πλευρές. Δεν είναι ορθογώνιο. Ποιο σχήμα είναι; 

4. 4. Ονόμασε τα πιο κάτω σχήματα:

			
_____	_____	_____	_____

5. Ποια σχήματα έχουν ορθές γωνίες:



6. Χρωμάτισε με κίτρινο τους κύκλους, με κόκκινο τα τρίγωνα και με πράσινο τα ορθογώνια.

