

ΠΡΟΒΛΗΜΑΤΑ ΚΑΙ ΑΣΚΗΣΕΙΣ ΜΕ ΤΟ ΕΥΡΩ

1. Έχω 1€ και θέλω να αγοράσω μια τσίχλα που κοστίζει 70 λεπτά. Μπορώ να την αγοράσω; Πόσα ρέστα θα πάρω πίσω; (λέξη κλειδί)

ΛΥΣΗ

ΑΠΑΝΤΗΣΗ:.....

2. Έχω 1€ και θέλω να αγοράσω μια καραμέλα που κοστίζει 50 λεπτά. Πόσα χρήματα θα πάρω ρέστα; (λέξη κλειδί)

ΛΥΣΗ

ΑΠΑΝΤΗΣΗ:.....






3. Έχω 60 λεπτά στο πορτοφόλι μου. Πόσα χρειάζομαι ακόμα για να έχω ένα ευρώ; (λέξη κλειδί)



ΛΥΣΗ

ΑΠΑΝΤΗΣΗ:.....

1. Παρατήρησε και ζωγράφισε ό, τι λείπει: (1ευρώ έχει 100 λεπτά)

 +		1 ΕΥΡΩ
 +		2 ΕΥΡΩ
 +	 	3 ΕΥΡΩ
 +	 	4 ΕΥΡΩ

Έδωσα:	Κοστίζει:	Ρέστα:
	8 λεπτά	$10\lambda \begin{cases} \swarrow 8\lambda \\ \searrow \dots\lambda \text{ ρέστα} \end{cases}$
	15 λεπτά	$20\lambda \begin{cases} \swarrow 15\lambda \\ \searrow \dots\lambda \text{ ρέστα} \end{cases}$
	30 λεπτά	$50\lambda \begin{cases} \swarrow 30\lambda \\ \searrow \dots\lambda \text{ ρέστα} \end{cases}$
	90 λεπτά	$1 \text{ €} = 100\lambda \begin{cases} \swarrow 90\lambda \\ \searrow \dots\lambda \text{ ρέστα} \end{cases}$
	1 ευρώ και 60	$2 \text{ €} \begin{cases} \swarrow 1 \text{ €} \\ \searrow 60\lambda \end{cases} \quad 1 \text{ €} = 100\lambda \begin{cases} \swarrow \dots\lambda \text{ ρέστα} \\ \searrow \dots\lambda \text{ ρέστα} \end{cases}$

	λεπτά	
	6 λεπτά	$7\lambda. \begin{cases} \swarrow & \searrow \\ 6\lambda. & \dots\lambda. \text{ ρέστα} \end{cases}$
	70 λεπτά	$1\text{€}=100\lambda. \begin{cases} \swarrow & \searrow \\ 70\lambda. & \dots\lambda. \text{ ρέστα} \end{cases}$

2. Γράφω στο κουτάκι πόσα χρήματα έχει το κάθε πορτοφόλι.













3. Η Μαρία αγόρασε ένα μπουφάν που κόστιζε 78 ευρώ. Αν έδωσε στο πωλητή του ταμείου δύο χαρτονομίσματα των 50 ευρώ, πόσα ρέστα θα πάρει;

Υπολογίζω:

Απάντηση: _____

4. Πόσα χρήματα έχω στο πορτοφόλι μου;



Έχω:

Τι από τα παρακάτω μπορώ να αγοράσω; Βάλε ✓ στο κουτάκι.

1 € και 30λ

3 € και 50λ

1 € και 40λ

1 € και 65λ

1 € και 80λ



5. Ζωγραφίζω τα ευρώ (χαρτονομίσματα, κέρματα) που χρειάζομαι για να αγοράσω τα παρακάτω.



67 €



56 €



94 €