

Άσκηση 1) Συμπλήρωσε τους αριθμούς που λείπουν αφού θυμηθείς πόσα γραμμάρια μου κάνουν ένα κιλό;

1.500 γρ= κιλό καιγρ.

2.050 γρ= Κιλά καιγρ.

5.700 γρ= Κιλά και Γρ.

Και αντίστροφα

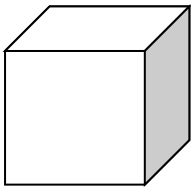
..... γρ= 3 κιλά και 200 γρ.

..... γρ= 1 κιλό και 35 γρ.


..... γρ= 6 κιλά και 100γρ.

Άσκηση 2). Ποιο από τα παρακάτω σχήματα ζυγίζει περισσότερο και πιο είναι το πιο ελαφρύ;


2 κιλά και 20 γρ




2,4 κιλά



760γρ



3.500 γρ



Απάντηση:

.....
.....
.....
.....
.....
.....