


Προβλήματα Πολλαπλασιασμού

Προπαίδια του 6 & του 7

1. Μία μέτρια πίτσα έχει 6 κομμάτια. Πόσα κομμάτια έχουν οι 3 πίτσες;


ΛΥΣΗ



ΑΠΑΝΤΗΣΗ

2. Ένα εξάγωνο έχει 6 γωνίες. Πόσες γωνίες έχουν τα 6 εξάγωνα;

ΛΥΣΗ



ΑΠΑΝΤΗΣΗ

3. Αγόρασα ένα παντελόνι και πρέπει να πληρώσω 6 χαρτονομίσματα των 10€. Πόσα λεφτά πρέπει να δώσω συνολικά;


ΛΥΣΗ



ΑΠΑΝΤΗΣΗ

4. Ο γυμναστής χώρισε τα παιδιά του Γ₂ τμήματος σε **7 τετράδες**.
Πόσοι είναι όλοι οι μαθητές της τάξης;

ΛΥΣΗ




ΑΠΑΝΤΗΣΗ



5. Η μητέρα μου αγόρασε από τη λαϊκή αγορά **7 κιλά μήλα**. Το ένα κιλό κόστιζε **2 ευρώ**. Πόσο πλήρωσε συνολικά;

ΛΥΣΗ



ΑΠΑΝΤΗΣΗ



Συγχαρητήρια....