




ΟΝΟΜΑ: _____

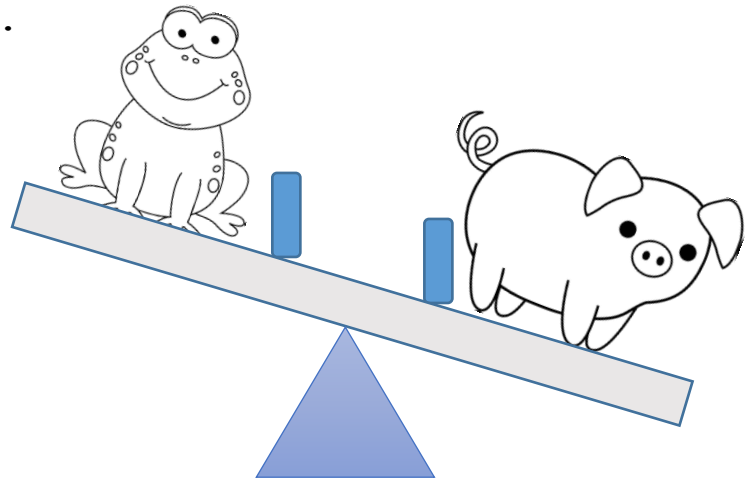
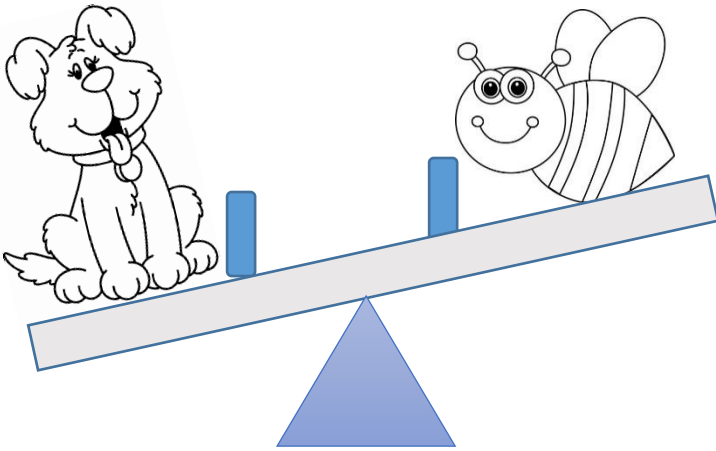
ΜΑΘΗΜΑΤΙΚΑ 6^η ΕΝΟΤΗΤΑ

Κεφ.38: Μετρώ το βάρος (α)

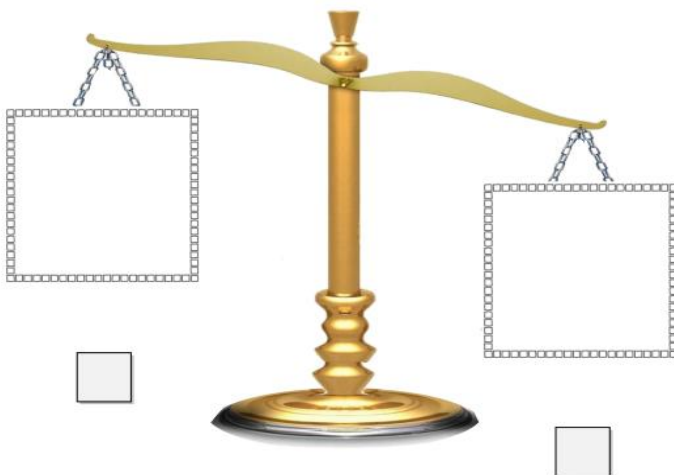
1. Βάζω τα αντικείμενα στη σειρά με αριθμούς 1, 2, 3, 4 από το πιο ελαφρύ στο πιο βαρύ.



2. Χρωματίζω το πιο βαρύ αντικείμενο.



3. Διαλέγω δύο αντικείμενα και τα τοποθετώ στην ζυγαριά. Έπειτα συμπληρώνω τις προτάσεις.



_____ είναι
βαρύτερ__ από ____
_____ .

_____ είναι
ελαφρύτερ__ από ____
_____ .

4. Παρατηρώ τις ζυγαριές και ζωγραφίζω ό,τι λείπει.

