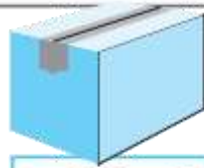




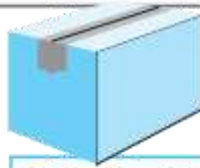
Ενότητα 31^α

Όλα τα κιβώτια μαζί ζυγίζουν 2.300 κιλά. Πόσα κιλά ζυγίζει το γ' κιβώτιο;

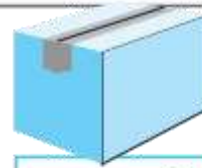
Λύση



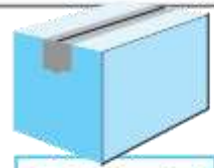
α. 650 κιλά



β. 350 κιλά



γ. κιλά



δ. 750 κιλά



Απάντηση:

Η Μαρία αγόρασε 5 μπλούζες και 7 παντελόνια. Πόσα χρήματα έδωσε συνολικά;

Λύση

όλες οι μπλούζες 28€

όλα τα παντελόνια 35€



Απάντηση:

$$\begin{array}{r} 79 \\ \times 8 \\ \hline \end{array}$$

$$\begin{array}{r} 48 \\ \times 9 \\ \hline \end{array}$$

$$\begin{array}{r} 67 \\ \times 8 \\ \hline \end{array}$$

$$\begin{array}{r} 73 \\ \times 7 \\ \hline \end{array}$$