

## ΒΑΖΩ ΤΟΥΣ ΑΡΙΘΜΟΥΣ ΣΕ ΣΕΙΡΑ (Β)

Όνομα.....

Προσπάθησε να βάλεις τους παρακάτω αριθμούς σε σειρά ξεκινώντας από το μεγαλύτερο.

0	7	9	3	→				
---	---	---	---	---	--	--	--	--

1	0	3	5	→				
---	---	---	---	---	--	--	--	--

1	7	0	8	→				
---	---	---	---	---	--	--	--	--

5	3	4	8	→				
---	---	---	---	---	--	--	--	--

4	2	5	1	→				
---	---	---	---	---	--	--	--	--

7	9	5	8	→				
---	---	---	---	---	--	--	--	--


8	1	7	6	→				
---	---	---	---	---	--	--	--	--



Βρίσκω πόσο κάνουν και αντιστοιχίζω με τα σωστά αποτελέσματα:

$2+2$	<b>4</b>	$9-3$
$6+2$		$8-4$
$3+3$		$9-1$
$5+3$		$9-5$
	<b>6</b>	
	<b>8</b>	



$7+2$	<b>9</b>	$12-3$	$12+4$	<b>17</b>	$20-3$	
$6+5$		$14-5$	$11+3$		$19-3$	
$8+2$		$16-5$	$13+3$		$20-6$	
$7+4$		$19-9$	$10+7$		$18-4$	
	<b>10</b>			<b>14</b>		
	<b>11</b>			<b>16</b>		



Συμπληρώνω πόσα θέλω για να έχω:

$5 + \dots$	<b>5</b>	$8 - \dots$
$2 + \dots$		$11 - \dots$
$4 + \dots$	<b>10</b>	$16 - \dots$
$7 + \dots$		$19 - \dots$

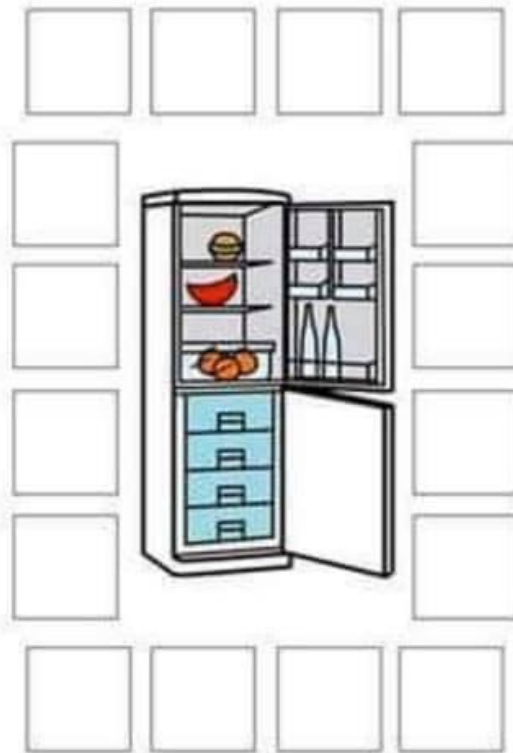
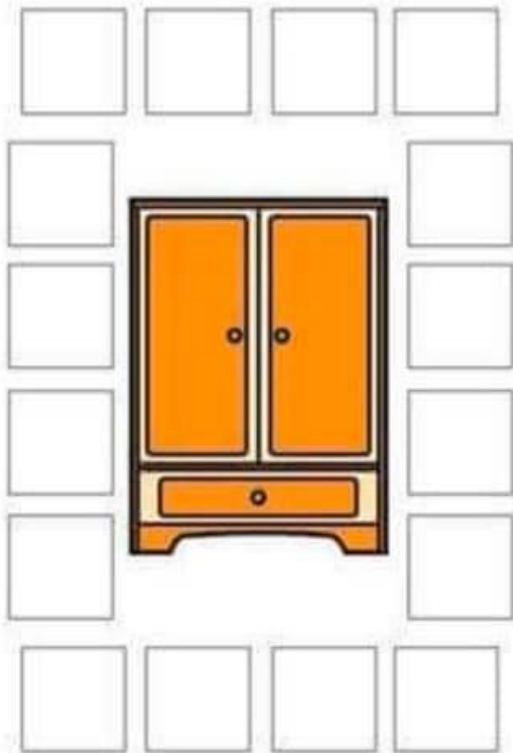
Ενώνω μόνο όσα έχουν αποτέλεσμα:

$8+2$
$14-4$
$7+4$
$20-10$

**10**



Ταξινομώ τα αντικείμενα.



Φτιάχνω τα μοτίβα.

