



ΟΝΟΜΑ _____

1) Μετρώ και βάζω σε κύκλο το σωστό αριθμό:



9 10 11 12



9 10 11 12




9 10 11 12



9 10 11 12

2) Ζωγραφίζω τόσα όσα μου λέει ο αριθμός:




9



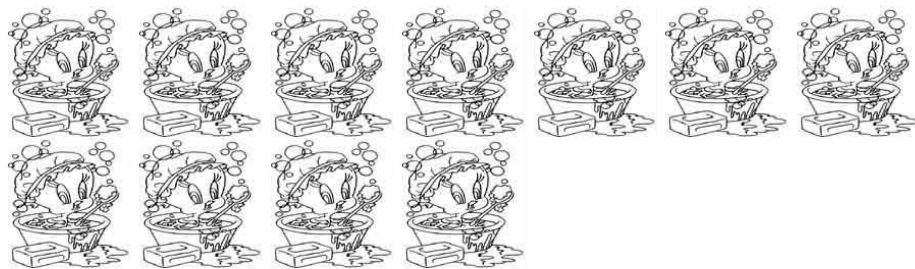
10



12



11



10

3) Μετρώ από το 6 έως το 12 και γράφω τους αριθμούς με τη σειρά:

6	7	8	9	10	11	12

4) Γράφω πόσο κάνουν:

$5+5=$

$6+4=$

$7+3=$

$8+2=$

$9+1=$

$10+1=$

$10+2=$