

**Συμπληρώνω ό,τι λείπει:**

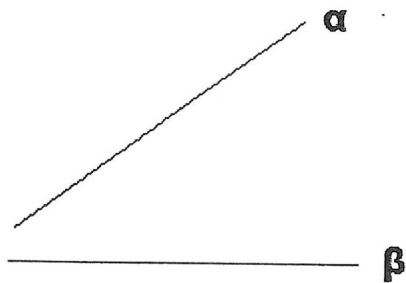
Παράλληλες είναι οι ευθείες που .....

Τεμνόμενες είναι οι ευθείες που .....

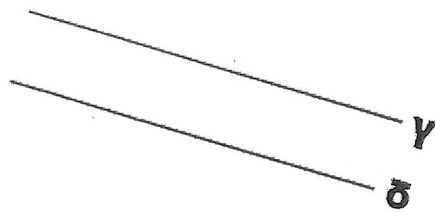
Κάθετες είναι οι ευθείες που .....

.....

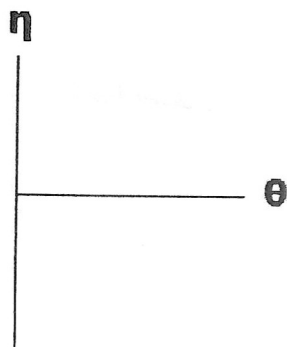
**1) Γράφω τι είναι μεταξύ τους οι παρακάτω ευθείες:**



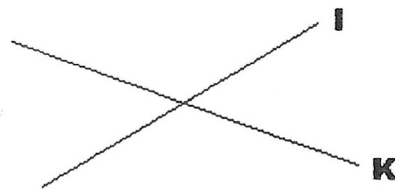
.....



.....



.....



.....

**2) Κατασκευάζω μια ευθεία ψ που να είναι κάθετη στην ευθεία χ:**

