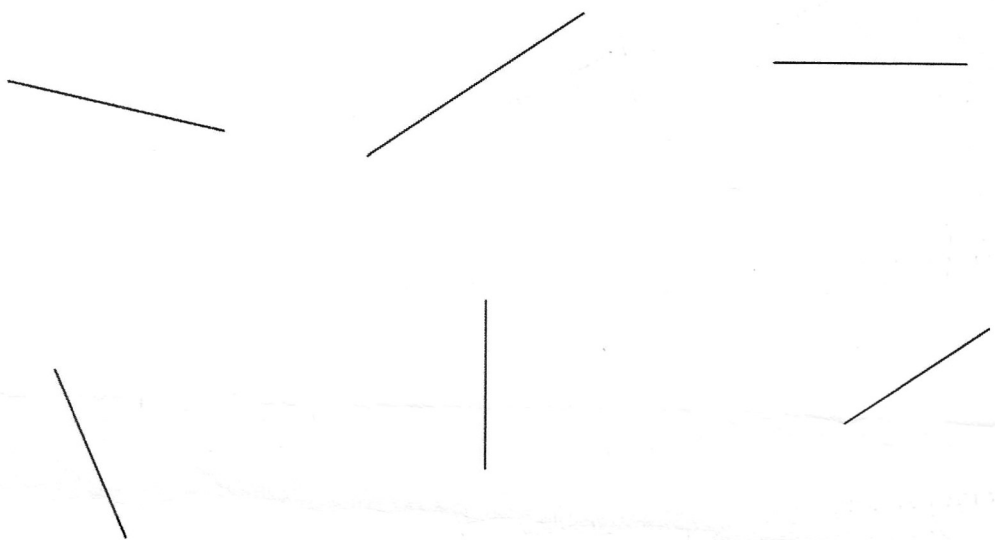
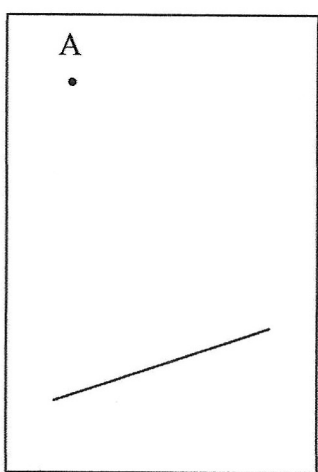


Σχεδιάζω κάθετες μεταξύ τους ευθείες


1. Με τη βοήθεια του γνώμονα  σχεδίασε μια κάθετη σε κάθε μια από τις παρακάτω ευθείες.



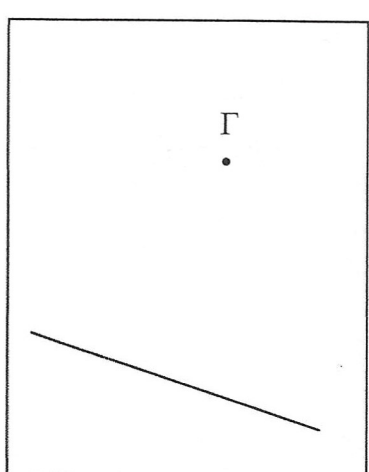
2. Χαράζω την απόσταση του κάθε σημείου από την ευθεία και μετρώ το μήκος της.



.....εκατοστά



.....εκ.



.....εκ.