

1. **Ανεβαίνω 2- 2 μέχρι το 50.**


2	4	6	8	10
12	14	16	18	20
22	24	26	28	30
32	34	36	38	40
42	44	46	48	50

Κατεβαίνω 2 -2 από το 50.


50	48	46	44	42
40	38	36	34	32
30	28	26	24	22
20	18	16	14	12
10	8	6	4	2

2. Απαντώ στις παρακάτω ερωτήσεις:


Θάνος



Ζωή



Αντρέας



1. Πόσα ευρώ έχει το κάθε παιδί;

Θάνος

9

Ζωή

16

Αντρέας

11

2. Ποιος έχει τα περισσότερα χρήματα; **Η Ζωή**

3. Πόσα χρήματα έχει ο Θάνος και ο Αντρέας μαζί; **9 + 11 = 20**

4. Ποιο παιδί μπορεί να αγοράσει το αυτοκινητάκι; **Η Ζωή**

5. Θα πάρει ρέστα; Αν ναι, πόσα ρέστα θα πάρει; **16 - 14 = 2**

14 ευρώ



4. Βοήθησε το κάθε παιδάκι να υπολογίσει σωστά.



$6 + 6 = 12$	$7 + 7 = 14$	$8 + 8 = 16$	$9 + 9 = 18$
$16 + 6 = 22$	$17 + 7 = 24$	$18 + 8 = 26$	$19 + 9 = 28$
$26 + 6 = 32$	$27 + 7 = 34$	$28 + 8 = 36$	$29 + 9 = 38$
$36 + 6 = 42$	$37 + 7 = 44$	$38 + 8 = 46$	$39 + 9 = 48$
$46 + 6 = 52$	$47 + 7 = 54$	$48 + 8 = 56$	$49 + 9 = 58$



$9 - 4 = 5$	$8 - 3 = 5$	$7 - 2 = 5$
$19 - 4 = 15$	$18 - 3 = 15$	$17 - 2 = 15$
$29 - 4 = 25$	$28 - 3 = 25$	$27 - 2 = 25$
$39 - 4 = 35$	$38 - 3 = 35$	$37 - 2 = 35$
$49 - 4 = 45$	$48 - 3 = 45$	$48 - 2 = 45$