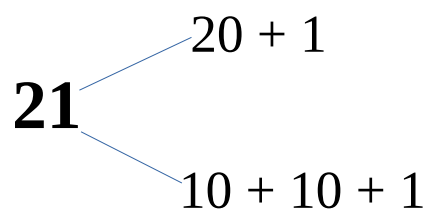
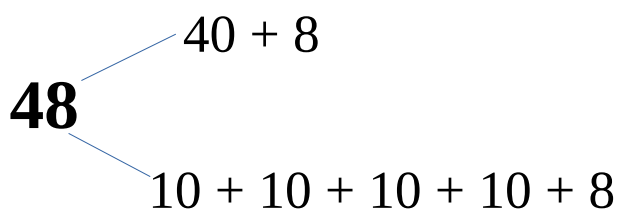
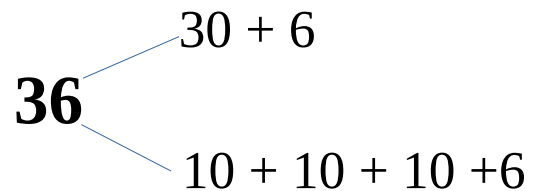
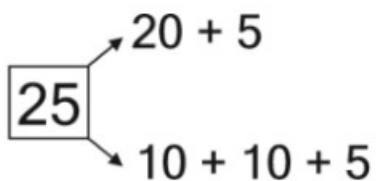


2. Συμπλήρωσε όπως το παράδειγμα:

3 Δ 5M	10 + 10 + 10 + 5	30 + 5	35
2Δ 1M	10 + 10 + 1	20 + 1	21
4Δ 7M	10+ 10 +10 +10 +7	40 + 7	47
2Δ 2M	10 + 10 + 2	20 + 2	22
3Δ 3M	10 + 10 + 10 + 3	30 + 3	33
4Δ 9M	10 + 10 + 10 + 10 +9	40 + 9	49
5Δ 0M	10 + 10 + 10 +10 + 10	50 + 0	50

3. Ανάλυσε τους αριθμούς όπως το παράδειγμα:



4. Κυκλώνω με κόκκινο χρώμα τις **Δεκάδες** και με πράσινο τις **Μονάδες** και βάζω τους αριθμούς από τον μικρότερο στον μεγαλύτερο.

27 **41** **39** **19** **50**

19 < 27 < 39 < 41 < 50

5. Ποιος είναι ο αριθμός που έχει: Κύκλωσε τη σωστή απάντηση.

- 3**M** και 1**Δ** 31 ή **13**
- 2**M** και 4**Δ** **42** ή 24
- 2**Δ** και 1**M** **21** ή 12
- 3**Δ** και 4**M** 43 ή **34**

6. Ανέβα 10 – 10 μέχρι το 50 και κατέβα.

10	20	30	40	50
-----------	-----------	-----------	-----------	-----------

50	40	30	20	10
-----------	-----------	-----------	-----------	-----------