

ΠΟΛΛΑΠΛΑΣΙΑΣΜΟΣ ΜΕ ΤΟ 2

$0 \times 2 = 0$

$1 \times 2 = 2$

$2 \times 2 = 4$

$3 \times 2 = 6$

$4 \times 2 = 8$

$5 \times 2 = 10$

$6 \times 2 = 12$

$7 \times 2 = 14$

$8 \times 2 = 16$

$9 \times 2 = 18$

$10 \times 2 = 20$



Συμπληρώνω τα κενά με τους αριθμούς που λείπουν.

$4 \times 2 = \underline{\quad}$

$5 \times 2 = \underline{\quad}$

$2 \times 8 = \underline{\quad}$

$3 \times 2 = \underline{\quad}$

$3 \times 2 = \underline{\quad}$

$2 \times 2 = \underline{\quad}$

$1 \times 2 = \underline{\quad}$

$2 \times 0 = \underline{\quad}$

$9 \times 2 = \underline{\quad}$

$\underline{\quad} \times 2 = \underline{\quad}$

$8 \times 2 = \underline{\quad}$

$10 \times 2 = \underline{\quad}$

Συμπληρώνω στο κουτάκι τον αριθμό που λείπει.

$2 \times \square = 14$

$2 \times \square = 20$

$\square \times 2 = 12$

$2 \times \square = 18$

$\square \times 2 = 16$

$\square \times 2 = 6$

Λύνω τα προβλήματα.

- πόσα πόδια έχουν:

$2 \text{ κότες; } ___ \times ___ = ___$

$4 \text{ κότες; } ___ \times ___ = ___$

$5 \text{ κότες; } ___ \times ___ = ___$

$9 \text{ κότες; } ___ \times ___ = ___$

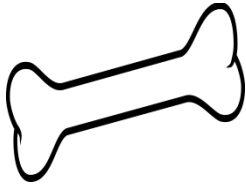
Μία τσάντα χωράει 2 βιβλία. Οι 7 τσάντες, πόσα βιβλία χωρούν;

Λύση



Απάντηση: _____

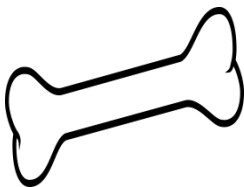
Ενώνω το κάθε σκυλάκι με το κόκαλο που πρέπει να φάει.



2x8



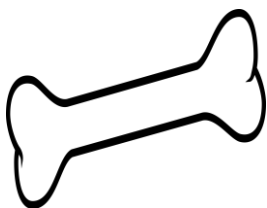
18



2x7



16



2x9



14

ΠΟΛΛΑΠΛΑΣΙΑΣΜΟΣ ΜΕ ΤΟ 3

$0 \times 3 = 0$

$1 \times 3 = 3$

$2 \times 3 = 6$

$3 \times 3 = 9$

$4 \times 3 = 12$

$5 \times 3 = 15$

$6 \times 3 = 18$

$7 \times 3 = 21$

$8 \times 3 = 24$

$9 \times 3 = 27$

$10 \times 3 = 30$



Συμπληρώνω τα κενά με τους αριθμούς που λείπουν.

$4 \times 3 = \underline{\quad}$

$5 \times 3 = \underline{\quad}$

$3 \times 8 = \underline{\quad}$

$3 \times 3 = \underline{\quad}$

$3 \times 3 = \underline{\quad}$

$3 \times 2 = \underline{\quad}$

$1 \times 3 = \underline{\quad}$

$3 \times 0 = \underline{\quad}$

$9 \times 3 = \underline{\quad}$

$\underline{\quad} \times 3 = \underline{\quad}$

$8 \times 3 = \underline{\quad}$

$10 \times 3 = \underline{\quad}$

Συμπληρώνω στο κουτάκι τον αριθμό που λείπει.

$3 \times \square = 21$

$3 \times \square = 30$

$\square \times 3 = 12$

$3 \times \square = 18$

$\square \times 3 = 9$

$\square \times 3 = 6$

Λύνω τα προβλήματα.

- Μια κασετίνα χωράει 3 μολύβια, πόσα χωρούν:

2 κασετίνες; $\underline{\quad} \times \underline{\quad} = \underline{\quad}$

4 κασετίνες; $\underline{\quad} \times \underline{\quad} = \underline{\quad}$

5 κασετίνες; $\underline{\quad} \times \underline{\quad} = \underline{\quad}$

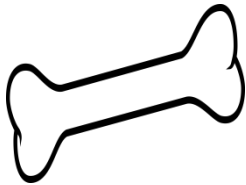
9 κασετίνες; $\underline{\quad} \times \underline{\quad} = \underline{\quad}$

Ένα μπολ χωράει 3 μήλα. Τα 9 μπολ, πόσα μήλα χωρούν;

Λύση

Απάντηση: _____

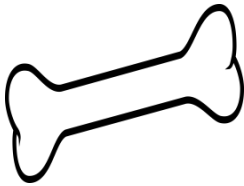
Ενώνω το κάθε σκυλάκι με το κόκαλο που πρέπει να φάει.



3x8



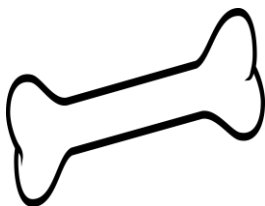
27



3x7



24



3x9



21

ΠΟΛΛΑΠΛΑΣΙΑΣΜΟΣ ΜΕ ΤΟ 4

$0 \times 4 = 0$

$1 \times 4 = 4$

$2 \times 4 = 8$

$3 \times 4 = 12$

$4 \times 4 = 16$

$5 \times 4 = 20$

$6 \times 4 = 24$

$7 \times 4 = 28$

$8 \times 4 = 32$

$9 \times 4 = 36$

$10 \times 4 = 40$



Συμπληρώνω τα κενά με τους αριθμούς που λείπουν.

$4 \times 4 = \underline{\quad}$

$5 \times 4 = \underline{\quad}$

$4 \times 8 = \underline{\quad}$

$3 \times 4 = \underline{\quad}$

$4 \times 2 = \underline{\quad}$

$4 \times 7 = \underline{\quad}$

$1 \times 4 = \underline{\quad}$

$0 \times 4 = \underline{\quad}$

$9 \times 4 = \underline{\quad}$

$\underline{\quad} \times 4 = \underline{\quad}$

$8 \times 4 = \underline{\quad}$

$10 \times 4 = \underline{\quad}$

Συμπληρώνω στο κουτάκι τον αριθμό που λείπει.

$4 \times \square = 12$

$4 \times \square = 40$

$\square \times 4 = 36$

$4 \times \square = 28$

$\square \times 4 = 16$

$\square \times 4 = 8$

Λύνω τα προβλήματα.

- Μια γάτα έχει 4 πόδια, πόσα έχουν:

$2 \text{ γάτες; } \underline{\quad} \times \underline{\quad} = \underline{\quad}$

$4 \text{ γάτες; } \underline{\quad} \times \underline{\quad} = \underline{\quad}$

$5 \text{ γάτες; } \underline{\quad} \times \underline{\quad} = \underline{\quad}$

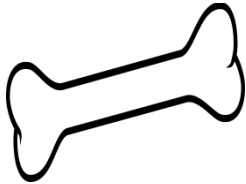
$9 \text{ γάτες; } \underline{\quad} \times \underline{\quad} = \underline{\quad}$

Ένα μπουκάλι χωράει 4 λίτρα νερό. Τα 9 μπουκάλια, πόσο νερό χωρούν;

Λύση

Απάντηση: _____

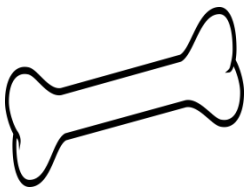
Ενώνω το κάθε σκυλάκι με το κόκαλο που πρέπει να φάει.



4x6



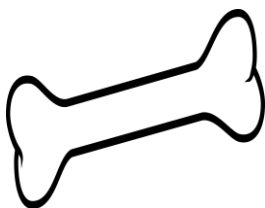
36



9x4



24



4x3



12

ΠΟΛΛΑΠΛΑΣΙΑΣΜΟΣ ΜΕ ΤΟ 5

$0 \times 5 = 0$

$1 \times 5 = 5$

$2 \times 5 = 10$

$3 \times 5 = 15$

$4 \times 5 = 20$

$5 \times 5 = 25$

$6 \times 5 = 30$

$7 \times 5 = 35$

$8 \times 5 = 40$

$9 \times 5 = 45$

$10 \times 5 = 50$



Συμπληρώνω τα κενά με τους αριθμούς που λείπουν.

$5 \times 4 = \underline{\quad}$

$5 \times 5 = \underline{\quad}$

$5 \times 8 = \underline{\quad}$

$3 \times 5 = \underline{\quad}$

$5 \times 2 = \underline{\quad}$

$5 \times 7 = \underline{\quad}$

$1 \times 5 = \underline{\quad}$

$0 \times 5 = \underline{\quad}$

$9 \times 5 = \underline{\quad}$

$\underline{\quad} \times 5 = \underline{\quad}$

$8 \times 5 = \underline{\quad}$

$10 \times 5 = \underline{\quad}$

Συμπληρώνω στο κουτάκι τον αριθμό που λείπει.

$5 \times \square = 15$

$5 \times \square = 50$

$\square \times 5 = 35$

$5 \times \square = 25$

$\square \times 5 = 45$

$\square \times 5 = 10$

Λύνω τα προβλήματα.

- Ένα παιδί έχει 5 ευρώ, πόσα ευρώ έχουν:

2 παιδιά; $\underline{\quad} \times \underline{\quad} = \underline{\quad}$

4 παιδιά; $\underline{\quad} \times \underline{\quad} = \underline{\quad}$

5 παιδιά; $\underline{\quad} \times \underline{\quad} = \underline{\quad}$

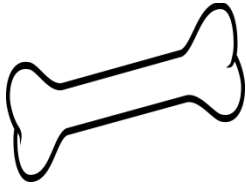
9 παιδιά; $\underline{\quad} \times \underline{\quad} = \underline{\quad}$

Ένα άλμπουμ χωράει 5 φωτογραφίες. Τα 9 άλμπουμ, πόσες φωτογραφίες χωρούν;

Λύση

Απάντηση: _____

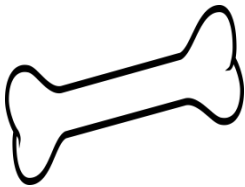
Ενώνω το κάθε σκυλάκι με το κόκαλο που πρέπει να φάει.



5x6



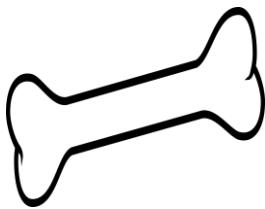
45



9x5



25



5x5



30

ΠΟΛΛΑΠΛΑΣΙΑΣΜΟΣ ΜΕ ΤΟ 6

$0 \times 6 = 0$

$1 \times 6 = 6$

$2 \times 6 = 12$

$3 \times 6 = 18$

$4 \times 6 = 24$

$5 \times 6 = 30$

$6 \times 6 = 36$

$7 \times 6 = 42$

$8 \times 6 = 48$

$9 \times 6 = 54$

$10 \times 6 = 60$



Συμπληρώνω τα κενά με τους αριθμούς που λείπουν.

$6 \times 4 = \underline{\quad}$

$5 \times 6 = \underline{\quad}$

$6 \times 3 = \underline{\quad}$

$3 \times 6 = \underline{\quad}$

$6 \times 2 = \underline{\quad}$

$6 \times 7 = \underline{\quad}$

$1 \times 6 = \underline{\quad}$

$0 \times 6 = \underline{\quad}$

$9 \times 6 = \underline{\quad}$

$\underline{\quad} \times 6 = \underline{\quad}$

$8 \times 6 = \underline{\quad}$

$10 \times 6 = \underline{\quad}$

Συμπληρώνω στο κουτάκι τον αριθμό που λείπει.

$6 \times \square = 36$

$6 \times \square = 60$

$\square \times 6 = 48$

$6 \times \square = 24$

$\square \times 6 = 54$

$\square \times 6 = 12$

Λύνω τα προβλήματα.

- Μία μολυβοθήκη χωράει 6 μολύβια, πόσα μολύβια χωρούν:

2 μολυβοθήκες; $\square \times \square = \square$

4 μολυβοθήκες; $\square \times \square = \square$

5 μολυβοθήκες; $\square \times \square = \square$

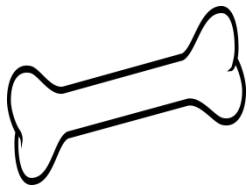
9 μολυβοθήκες; $\square \times \square = \square$

Ένα άλμπουμ χωράει 6 φωτογραφίες. Τα 9 άλμπουμ, πόσες φωτογραφίες χωρούν;

Λύση

Απάντηση: _____

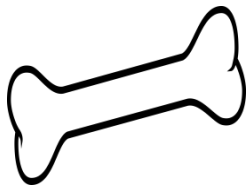
Ενώνω το κάθε σκυλάκι με το κόκαλο που πρέπει να φάει.



5x6



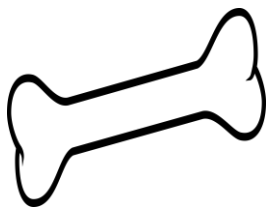
42



7x6



30



4x6



24

ΠΟΛΛΑΠΛΑΣΙΑΣΜΟΣ ΜΕ ΤΟ 7

$0 \times 7 = 0$

$1 \times 7 = 7$

$2 \times 7 = 14$

$3 \times 7 = 21$

$4 \times 7 = 28$

$5 \times 7 = 35$

$6 \times 7 = 42$

$7 \times 7 = 49$

$8 \times 7 = 56$

$9 \times 7 = 63$

$10 \times 7 = 70$



Συμπληρώνω τα κενά με τους αριθμούς που λείπουν.

$7 \times 4 = \underline{\quad}$

$5 \times 7 = \underline{\quad}$

$7 \times 3 = \underline{\quad}$

$3 \times 7 = \underline{\quad}$

$7 \times 2 = \underline{\quad}$

$7 \times 7 = \underline{\quad}$

$1 \times 7 = \underline{\quad}$

$0 \times 7 = \underline{\quad}$

$9 \times 7 = \underline{\quad}$

$\underline{\quad} \times 7 = \underline{\quad}$

$8 \times 7 = \underline{\quad}$

$10 \times 7 = \underline{\quad}$

Συμπληρώνω στο κουτάκι τον αριθμό που λείπει.

$7 \times \square = 35$

$7 \times \square = 70$

$\square \times 7 = 63$

$7 \times \square = 21$

$\square \times 7 = 42$

$\square \times 7 = 56$

Λύνω τα προβλήματα.

- Μία τσάντα χωράει 7 βιβλία, πόσα βιβλία χωρούν:

2 τσάντες; $\square \times \square = \square$

4 τσάντες; $\square \times \square = \square$

5 τσάντες; $\square \times \square = \square$

9 τσάντες; $\square \times \square = \square$

Ένα συρτάρι χωράει 7 πετσέτες. Τα 9 συρτάρια, πόσες πετσέτες χωρούν;


Λύση

Απάντηση: _____

Ενώνω το κάθε παιδάκι με την κασετίνα του.



5x7



63



7x7



49



7x9



35

ΠΟΛΛΑΠΛΑΣΙΑΣΜΟΣ ΜΕ ΤΟ 8

$0 \times 8 = 0$

$1 \times 8 = 8$

$2 \times 8 = 16$

$3 \times 8 = 24$

$4 \times 8 = 32$

$5 \times 8 = 40$

$6 \times 8 = 48$

$7 \times 8 = 56$

$8 \times 8 = 64$

$9 \times 8 = 72$

$10 \times 8 = 80$



Συμπληρώνω τα κενά με τους αριθμούς που λείπουν.

$8 \times 4 = \underline{\quad}$

$5 \times 8 = \underline{\quad}$

$8 \times 3 = \underline{\quad}$

$8 \times 7 = \underline{\quad}$

$8 \times 2 = \underline{\quad}$

$7 \times 8 = \underline{\quad}$

$1 \times 8 = \underline{\quad}$

$0 \times 8 = \underline{\quad}$

$9 \times 8 = \underline{\quad}$

$\underline{\quad} \times 8 = \underline{\quad}$

$8 \times 8 = \underline{\quad}$

$10 \times 8 = \underline{\quad}$

Συμπληρώνω στο κουτάκι τον αριθμό που λείπει.

$8 \times \square = 24$

$8 \times \square = 80$

$\square \times 8 = 72$

$8 \times \square = 16$

$\square \times 8 = 32$

$\square \times 8 = 56$

Λύνω τα προβλήματα.

- Ένα ασανσέρ χωράει 8 άτομα, πόσα άτομα χωρούν:

2 ασανσέρ; $\underline{\quad} \times \underline{\quad} = \underline{\quad}$

4 ασανσέρ; $\underline{\quad} \times \underline{\quad} = \underline{\quad}$

5 ασανσέρ; $\underline{\quad} \times \underline{\quad} = \underline{\quad}$

9 ασανσέρ; $\underline{\quad} \times \underline{\quad} = \underline{\quad}$

Ένα συρτάρι χωράει 8 πετσέτες. Τα 7 συρτάρια, πόσες πετσέτες χωρούν;

Λύση

Απάντηση: _____

Ενώνω το κάθε παιδάκι με το σπιτάκι του.



5x8



72



7x8



40



8x9



56

ΠΟΛΛΑΠΛΑΣΙΑΣΜΟΣ ΜΕ ΤΟ 9

$0 \times 9 = 0$

$1 \times 9 = 9$

$2 \times 9 = 18$

$3 \times 9 = 27$

$4 \times 9 = 36$

$5 \times 9 = 45$

$6 \times 9 = 54$

$7 \times 9 = 63$

$8 \times 9 = 72$

$9 \times 9 = 81$

$10 \times 9 = 90$



Συμπληρώνω τα κενά με τους αριθμούς που λείπουν.

$9 \times 4 = \underline{\quad}$

$5 \times 9 = \underline{\quad}$

$9 \times 3 = \underline{\quad}$

$8 \times 9 = \underline{\quad}$

$9 \times 2 = \underline{\quad}$

$7 \times 9 = \underline{\quad}$

$1 \times 9 = \underline{\quad}$

$0 \times 9 = \underline{\quad}$

$9 \times 8 = \underline{\quad}$

$\underline{\quad} \times 9 = \underline{\quad}$

$9 \times 9 = \underline{\quad}$

$10 \times 9 = \underline{\quad}$

Συμπληρώνω στο κουτάκι τον αριθμό που λείπει.

$9 \times \square = 45$

$9 \times \square = 90$

$\square \times 9 = 81$

$9 \times \square = 18$

$\square \times 9 = 36$

$\square \times 9 = 54$

Λύνω τα προβλήματα.

- Μια μολυβοθήκη χωράει 9 μολύβια, πόσα μολύβια χωρούν:

2 μολυβοθήκες; $\underline{\quad} \times \underline{\quad} = \underline{\quad}$

4 μολυβοθήκες; $\underline{\quad} \times \underline{\quad} = \underline{\quad}$

5 μολυβοθήκες; $\underline{\quad} \times \underline{\quad} = \underline{\quad}$

9 μολυβοθήκες; $\underline{\quad} \times \underline{\quad} = \underline{\quad}$

Ένα συρτάρι χωράει 9 πετσέτες. Τα 8 συρτάρια, πόσες πετσέτες χωρούν;

Λύση

Απάντηση: _____

Ενώνω το κάθε παιδάκι με το σπιτάκι του.



6x9



72



7x9



54



8x9



63

ΠΟΛΛΑΠΛΑΣΙΑΣΜΟΣ ΜΕ ΤΟ 10

$$0 \times 10 = 0$$

$$1 \times 10 = 10$$

$$2 \times 10 = 20$$

$$3 \times 10 = 30$$

$$4 \times 10 = 40$$

$$5 \times 10 = 50$$

$$6 \times 10 = 60$$

$$7 \times 10 = 70$$

$$8 \times 10 = 80$$

$$9 \times 10 = 90$$

$$10 \times 10 = 100$$



Συμπληρώνω τα κενά με τους αριθμούς που λείπουν.

$$10 \times 4 = \underline{\quad}$$

$$5 \times 10 = \underline{\quad}$$

$$10 \times 3 = \underline{\quad}$$

$$10 \times 9 = \underline{\quad}$$

$$10 \times 2 = \underline{\quad}$$

$$7 \times 10 = \underline{\quad}$$

$$1 \times 10 = \underline{\quad}$$

$$0 \times 10 = \underline{\quad}$$

$$10 \times 8 = \underline{\quad}$$

$$\underline{\quad} \times 10 = \underline{\quad}$$

$$8 \times 10 = \underline{\quad}$$

$$10 \times 10 = \underline{\quad}$$

Συμπληρώνω στο κουτάκι τον αριθμό που λείπει.

$10x \square = 60$

$10x \square = 30$

$\square \times 10 = 80$

$10x \square = 20$

$\square \times 10 = 40$

$\square \times 10 = 100$

Λύνω τα προβλήματα.

- Μια τσάντα χωράει 10 βιβλία, πόσα βιβλία χωρούν:

2 τσάντες; $\underline{\quad} \times \underline{\quad} = \underline{\quad}$

4 τσάντες; $\underline{\quad} \times \underline{\quad} = \underline{\quad}$

5 τσάντες; $\underline{\quad} \times \underline{\quad} = \underline{\quad}$

9 τσάντες; $\underline{\quad} \times \underline{\quad} = \underline{\quad}$

Ένα λεωφορείο χωράει 10 επιβάτες. Τα 8 λεωφορεία, πόσους επιβάτες χωρούν;


Λύση

Απάντηση: _____

Ενώνω το κάθε παιδάκι με το σπιτάκι του.



10x9



30



5x10



90



3x10



50