

Όνομα : _____

«Δεκάδες και μονάδες (II)»

1. Ο Παναγιώτης αποφάσισε να ανοίξει τον κουμπαρά του και να μετρήσει πόσα νομίσματα ήταν μέσα.



Τα ευρώ ήταν: _____

Μόλις τα μετρήσε, τα έδωσε στη μητέρα του να του τα αλλάξει. Κύκλωσε τα νομίσματα που φτιάχνουν το ποσό που είχε ο Παναγιώτης στον κουμπαρά του



Με αυτά τα χρήματα ήθελε να αγοράσει:



10 ευρώ

και



10 ευρώ

και







6 ευρώ

Κύκλωσε τα νομίσματα που χρειάστηκε:



2. Σχημάτισε στους άβακες στους αριθμούς που δείχνουν οι πεταλούδες.
Συμπλήρωσε τους πίνακες:

																			
27	39	45	14																
Δ Μ	Δ Μ	Δ Μ	Δ Μ																
<table style="width: 100%; border-collapse: collapse;"> <tr><td style="width: 50%; text-align: center;">Δ</td><td style="width: 50%; text-align: center;">Μ</td></tr> <tr><td style="height: 50px;"></td><td></td></tr> </table>	Δ	Μ			<table style="width: 100%; border-collapse: collapse;"> <tr><td style="width: 50%; text-align: center;">Δ</td><td style="width: 50%; text-align: center;">Μ</td></tr> <tr><td style="height: 50px;"></td><td></td></tr> </table>	Δ	Μ			<table style="width: 100%; border-collapse: collapse;"> <tr><td style="width: 50%; text-align: center;">Δ</td><td style="width: 50%; text-align: center;">Μ</td></tr> <tr><td style="height: 50px;"></td><td></td></tr> </table>	Δ	Μ			<table style="width: 100%; border-collapse: collapse;"> <tr><td style="width: 50%; text-align: center;">Δ</td><td style="width: 50%; text-align: center;">Μ</td></tr> <tr><td style="height: 50px;"></td><td></td></tr> </table>	Δ	Μ		
Δ	Μ																		
Δ	Μ																		
Δ	Μ																		
Δ	Μ																		

3. Βρες τις δεκάδες και τις μονάδες. Συμπλήρωσε τις ισότητες:

14	<table style="width: 100%; border-collapse: collapse;"> <tr><td style="width: 50%; text-align: center;">Δ</td><td style="width: 50%; text-align: center;">Μ</td></tr> <tr><td style="height: 30px;"></td><td></td></tr> </table>	Δ	Μ			1 δεκάδα και 4 μονάδες	$14 = 10 + 4$
Δ	Μ						
27	<table style="width: 100%; border-collapse: collapse;"> <tr><td style="width: 50%; text-align: center;">Δ</td><td style="width: 50%; text-align: center;">Μ</td></tr> <tr><td style="height: 30px;"></td><td></td></tr> </table>	Δ	Μ			... δεκάδες και ... μονάδες	$.... = +$
Δ	Μ						
36	<table style="width: 100%; border-collapse: collapse;"> <tr><td style="width: 50%; text-align: center;">Δ</td><td style="width: 50%; text-align: center;">Μ</td></tr> <tr><td style="height: 30px;"></td><td></td></tr> </table>	Δ	Μ			... δεκάδες και ... μονάδες	$.... = +$
Δ	Μ						
43	<table style="width: 100%; border-collapse: collapse;"> <tr><td style="width: 50%; text-align: center;">Δ</td><td style="width: 50%; text-align: center;">Μ</td></tr> <tr><td style="height: 30px;"></td><td></td></tr> </table>	Δ	Μ			... δεκάδες και ... μονάδες	$.... = +$
Δ	Μ						
18	<table style="width: 100%; border-collapse: collapse;"> <tr><td style="width: 50%; text-align: center;">Δ</td><td style="width: 50%; text-align: center;">Μ</td></tr> <tr><td style="height: 30px;"></td><td></td></tr> </table>	Δ	Μ			... δεκάδες και ... μονάδες	$.... = +$
Δ	Μ						