

Πέμπτη 9 Απριλίου 2020

Όνομα: \_\_\_\_\_

Μαθηματικά



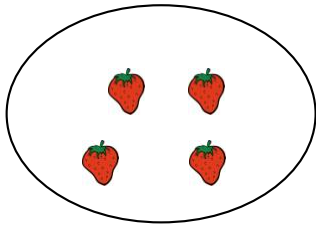
1. Μετρώ ανεβαίνοντας από το 1-20. Πρώτα το διαβάζω και μετά απ' έξω.

0	1	2	3	4	5	6	7	8	9	10
11	12	13	14	15	16	17	18	19	20	

2. Μετρώ κατεβαίνοντας από το 10 πρώτα βλέποντας και μετά απ' έξω.

10	9	8	7	6	5	4	3	2	1	0
----	---	---	---	---	---	---	---	---	---	---

3. Φτιάχνω αριθμούς με διάφορους τρόπους όπως είδα στην παρουσίαση.



$___ + ___ = 4$

$___ + ___ = 4$

$___ + ___ = 4$

$___ + ___ = 4$

$___ + ___ = 4$

$___ + ___ = 6$

$___ + ___ = 6$

$___ + ___ = 6$

$___ + ___ = 6$

$___ + ___ = 6$

$___ + ___ = 6$

$___ + ___ = 6$

$___ + ___ = 7$

$___ + ___ = 7$

$___ + ___ = 7$

$___ + ___ = 7$

$___ + ___ = 7$

$___ + ___ = 7$

$___ + ___ = 7$

$___ + ___ = 7$

4. Μετρώ 2-2 έως το 20 πρώτα από μέσα και μετά απ' έξω.

0	2	4	6	8	10	12	14	16	18	20
---	---	---	---	---	----	----	----	----	----	----

