

Όνομα _____
Ημερομηνία 9-4-2020
17° Δ.ΣΧ.ΕΥΟΣΜΟΥ

ΜΑΘΗΜΑΤΙΚΑ



1. Υπολογίζω το **γινόμενο** .

$23 \times 3 =$

$40 \times 4 =$

$25 \times 2 =$

$60 \times 4 =$

2. Υπολογίζω τα **γινόμενα** και τα **πηλίκα**.

$15 \times 4 =$

$20 \times 6 =$

$32 : 4 =$

$21 : 3 =$

$24 \times 2 =$

$30 \times 5 =$

$56 : 8 =$

$42 : 7 =$

$300 \times 2 =$

$200 \times 2 =$

$25 : 5 =$

$18 : 6 =$

3. Βρίσκω το **υπόλοιπο** σε κάθε αφαίρεση και το **ελέγχο** με την **αντίστροφη** πράξη(πρόσθεση):

$$\begin{array}{r} 478 \\ - 235 \\ \hline \end{array}$$

ΕΛΕΓΧΟΣ
$$\begin{array}{r} 235 \\ + \dots\dots \\ \hline \end{array}$$

$$\begin{array}{r} 564 \\ - 41 \\ \hline \end{array}$$

ΕΛΕΓΧΟΣ
$$\begin{array}{r} 41 \\ + \dots\dots \\ \hline \end{array}$$

$$\begin{array}{r} 654 \\ - 318 \\ \hline \end{array}$$

$$+ \dots\dots$$

$$\begin{array}{r} 548 \\ - 384 \\ \hline \end{array}$$

$$+ \dots\dots$$

4. Υπολογίζω το **πηλίκο** σε κάθε διαίρεση και **ελέγχο** κάτω από κάθε πλαίσιο με την **αντίστροφη** πράξη(πολλαπλασιασμός):

$24 : 4 =$

$18 : 3 =$

$21 : 3 =$

$42 : 6 =$

$4 \times 6 =$

$36 : 4 =$

$27 : 3 =$

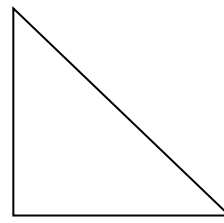
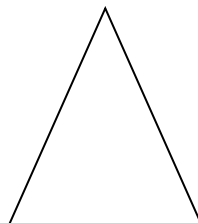
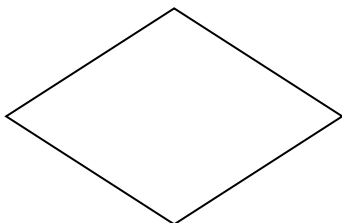

$16 : 4 =$

$36 : 6 =$

5. Να βρεις τον προηγούμενο και τον επόμενο αριθμό.

..... < 1.234 < < 1.999 < < 2.500 <
..... < 2.010 < < 1.567 < < 1.004 <

6. Με τη βοήθεια του γνώμονα βρίσκω στα παρακάτω σχήματα τις ορθές γωνίες βάζοντας ✓.



7. Το μανάβικο του κυρίου Φώτη εισέπραξε σε μια μέρα τα παρακάτω χρήματα από κάθε κατηγορία προϊόντων:

φράουλες



168 ευρώ

μήλα



356 ευρώ

αχλάδια



125 ευρώ

◆ Πόσα ευρώ εισέπραξε συνολικά;

◆ Πόσα ευρώ εισέπραξε από μήλα και αχλάδια;