


ΜΑΘΗΜΑΤΙΚΑ

ΕΝΟΤΗΤΑ 4

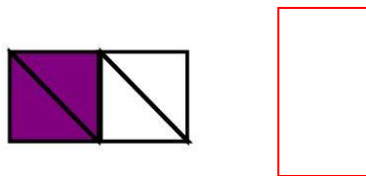
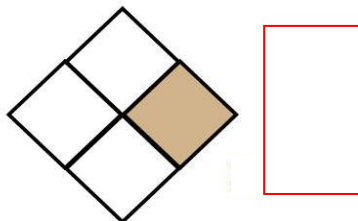
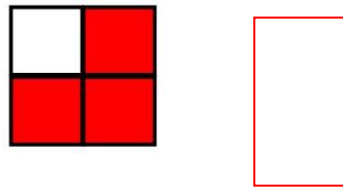

ΟΝΟΜΑ:.....

ΗΜΕΡΟΜΗΝΙΑ: 1-4-2020

ΚΛΑΣΜΑΤΑ




1. Τι μέρος του σχήματος είναι βαμμένο;



2. Τι μέρος του κύκλου κρατούν τα παιδιά;
(Γράφω την απάντησή μου με αριθμούς και λέξεις)



—
.....



—
.....



—
.....

3. Συγκρίνω το μέρος του ίδιου ποσού.

→Κυκλώνω το $\frac{1}{3}$



Το $\frac{1}{3}$ είναι ευρώ.

→Κυκλώνω τα $\frac{2}{6}$



Τα $\frac{2}{6}$ είναι ευρώ.


Συμπέρασμα: Το κλάσμα — έχει την ίδια αξία με το κλάσμα —

Τα κλάσματα αυτά λέγονται και έχουμε: — = —


4. Τα παιδιά έφαγαν μια σοκολάτα που είχε ... X ... = ... ίσα κομμάτια.



Έφαγε κομμάτια



Έφαγε κομμάτια



Έφαγε κομμάτια

Καλή επιτυχία!!!