


Επανάληψη στα κλάσματα και τις κλασματικές μονάδες



Έχεις ακούσει ποτέ τις έντονα γραμμένες εκφράσεις; Σε ποιες περιπτώσεις; Έχεις σκεφτεί τι πραγματικά σημαίνουν;

Αν η Αννούλα φύγει από το σπίτι της στις 11.00, τι ώρα θα δείχνει το ρολόι;



Χρωμάτισε πόσο διαρκεί το ένα τέταρτο. Πόσα λεπτά είναι το ένα τέταρτο;
Πόσα λεπτά είναι τα δύο τέταρτα;
Πόσα λεπτά είναι τα τρία τέταρτα;
Πόσα τέταρτα έχει η ώρα;



Δηλαδή, αν χωρίσουμε την ώρα, που έχει 60 λεπτά, στα τέσσερα, θα πάρουμε τέσσερα τέταρτα, που το καθένα διαρκεί 15 λεπτά!!!


Αυτό που λέει η Φωτεινή είναι σωστό γιατί :

1 ώρα = 60 λεπτά

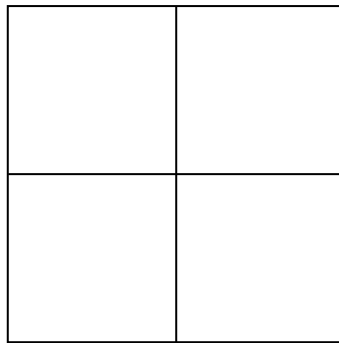
60 λεπτά : 4 = 15 λεπτά (15 + 15 + 15 + 15 = 60)

Ένα τέταρτο, δηλαδή, το ένα από τα τέσσερα, είναι ίσο με 15 λεπτά.

Χρωμάτισε το ένα τέταρτο (ή αλλιώς το ένα από τα τέσσερα).



Δηλαδή, ένα ολόκληρο σχήμα, που είναι χωρισμένο σε τέσσερα μέρη, αποτελείται από τέσσερα μερίδια, που τα λέμε τέταρτα.



Ας προσπαθήσουμε να απαριθμήσουμε τα τέταρτα που έχει το τετράγωνο!



Ερώτηση

Πόσα μερίδια έχει ένα ολόκληρο σχήμα που είναι χωρισμένο στα δύο;

Χώρισε σε δεύτερα το ορθογώνιο παραλληλόγραμμο.

Χρωμάτισε το ένα δεύτερο.

Πόσα δεύτερα έχει ολόκληρο το σχήμα;

Μισό κιλό κιμά!

Πόσα γραμμάρια είναι ένα κιλό;

Ποιο είναι το μισό του κιλού;

Πόσα μισά (δεύτερα) έχει το κιλό;

Χώρισε το σχήμα σε τρίτα.

Χρωμάτισε το ένα τρίτο.

Πόσα τρίτα έχει ολόκληρο το σχήμα;

Δραστηριότητα

Δίπλωσε ένα φύλλο χαρτί στα δύο. Με το ψαλίδι κόψε το στη μέση.

Τι μερίδιο δημιουργήθηκε;

Πόσα τέτοια μερίδια υπάρχουν συνολικά;

