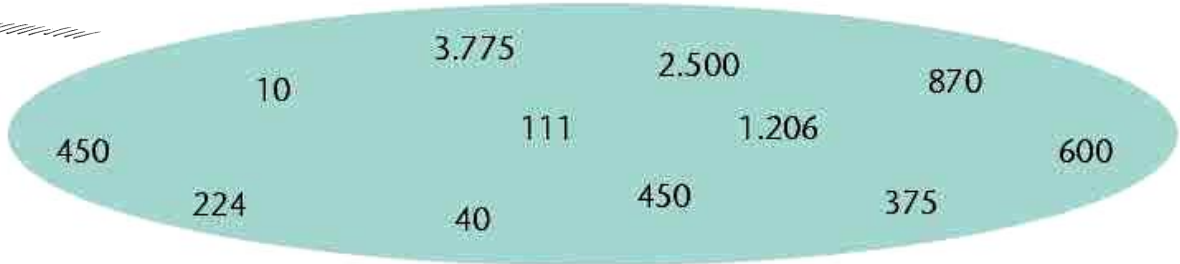


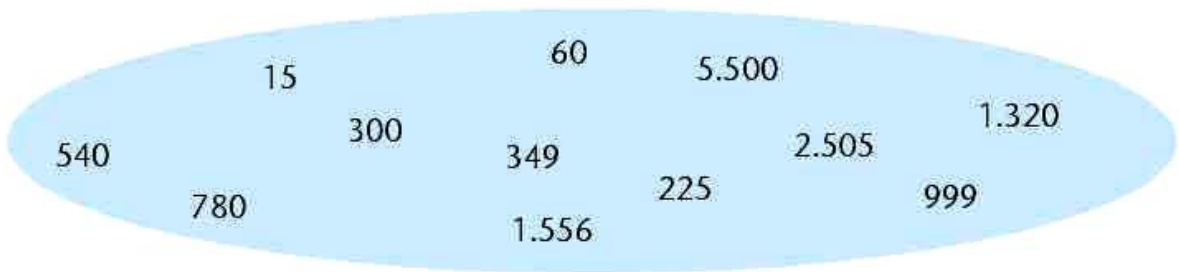
ΕΠΑΝΑΛΗΨΗ ΣΤΑ ΜΑΘΗΜΑΤΙΚΑ ΤΗΣ Δ' ΤΑΞΗΣ

6

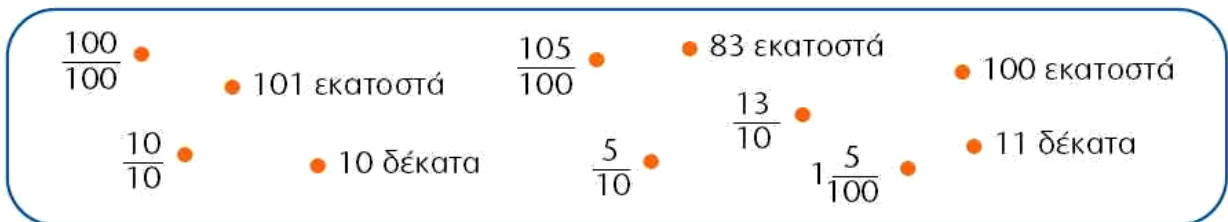
1. Ποιοι αριθμοί είναι πολλαπλάσια του 10; Τους βάζω σε κύκλο :



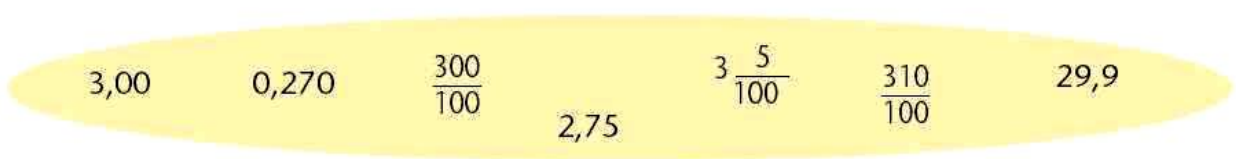
• Ποιοι αριθμοί είναι πολλαπλάσια του 5; Τους βάζω σε κύκλο :



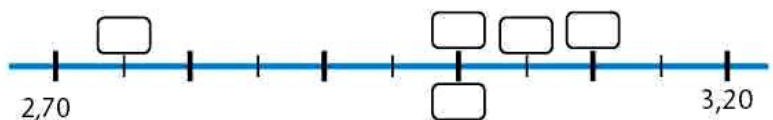
2. Κυκλώνω όσα είναι μεγαλύτερα από τη μονάδα:



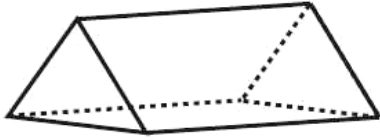
3. Βάζω σε κύκλο τους αριθμούς που βρίσκονται ανάμεσα στους 2,70 και 3,20.



• Τοποθετώ τους αριθμούς που επέλεξα στα κατάλληλα κουτάκια της αριθμογραμμής και ελέγχω :



4. Βρίσκω πόσες κορυφές, ακμές και έδρες έχει το παρακάτω στερεό :



.....

5. Αντιστοιχίζω κατάλληλα :

0,35 ●

● 1 ακέραια μονάδα και 28 εκατοστά

● $\frac{2.806}{100}$ ή $28 \frac{\dots\dots}{100}$

1,28 ●

● 35 εκατοστά

● $\frac{128}{100}$ ή $1 \frac{\dots\dots}{100}$

28,06 ●

● 22 δέκατα

● $\frac{22}{10}$ ή $2 \frac{\dots\dots}{10}$

2,2 ●

● 28 ακέραιες μονάδες και 6 εκατοστά

● $\frac{35}{100}$

6. Κάνω τις πράξεις:

$$\begin{array}{r} 365 \\ \times 258 \\ \hline \end{array}$$

$$\begin{array}{r|l} 23.688 & 24 \\ \hline & \end{array}$$

7.  Σημειώνουμε **Σ**ωστό ή **Λ**άθος :

● Η περίμετρος ενός ορθογωνίου με πλευρές 10 εκ. και 4 εκ. είναι 40 εκ.

● Το εμβαδόν ενός τετραγώνου με πλευρά 8 εκ. είναι 32 τ. εκ.

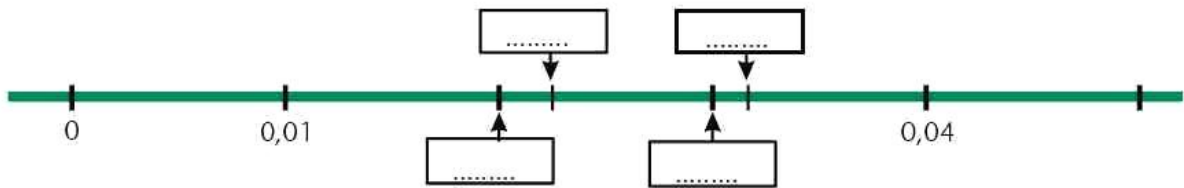
● Εξηγώ :

8. Συμπληρώνω τον πίνακα:

Με λέξεις	Με δεκαδικό κλάσμα	Με δεκαδικό αριθμό	Με διαίρεση
οχτώ δέκατα			8:10
	$\frac{3}{100}$		
		0,012	
			402:100
	$\frac{1.454}{10}$		

9.  Ποιος από τους αριθμούς **0,023** και **0,03** είναι μεγαλύτερος; Πόσο μεγαλύτερος; Εξηγούμε :

- Τοποθετούμε τους αριθμούς **0,023** **0,02** **0,032** και **0,03** στα κατάλληλα κουτάκια της αριθμογραμμής.



10. Σπαζοκεφαλιά!!!



Έχω στο μυαλό μου έναν αριθμό. Αν τον αφαιρέσω από το 400.000, βρίσκω 186.402. Ποιος είναι ο αριθμός;

11.

Έχω στο μυαλό μου έναν αριθμό. Αν τον διαιρέσω με το 400, βρίσκω 2.400. Ποιος αριθμός είναι;



12.



Συμπληρώνουμε κατάλληλα τις ώρες στην ατζέντα του Πέτρου:

- 3 ώρες και 5´ από τη στιγμή που ξύπνησε ο Πέτρος, ξεκινά το μάθημα των Μαθηματικών.
- 2 ώρες και 45´ πριν το μεσημεριανό του, ο Πέτρος έφαγε μια τυρόπιτα.
- τρειςήμισι ώρες μετά το μεσημεριανό του, πήγε στο Ωδείο.
- 2 ώρες και 1 τέταρτο πριν κοιμηθεί, ο Πέτρος τελείωσε τα μαθήματά του.

07:00 | Ο Πέτρος ξυπνάει



→ : |



→ : |



14:30 | Ο Πέτρος τρώει το μεσημεριανό του

→ : |



→ : |



20:00 | Ο Πέτρος πηγαίνει για ύπνο



13.

Μια ομάδα παιδιών συγκέντρωσε τα παρακάτω στοιχεία για συλλεκτικά αντικείμενα. Συμπληρώνω ό,τι λείπει στον πίνακα.

ΑΝΤΙΚΕΙΜΕΝΑ	ΠΟΣΑ ΚΥΚΛΟΦΟΡΗΣΑΝ	ΟΛΟΓΡΑΦΩΣ
Τηλεκάρτες	362.900	
Γραμματόσημα	494.209	
Νομίσματα	Πεντακόσιες οχτώ χιλιάδες επτακόσια πενήντα τρία
Σπιρτόκουτα	707.099	
Αμαξάκια μινιατούρες	Εκατόν είκοσι εννιά χιλιάδες εννιακόσια ενενήντα εννιά
Κάρτες ποδοσφαιριστών	Διακόσιες δύο χιλιάδες διακόσια είκοσι δύο