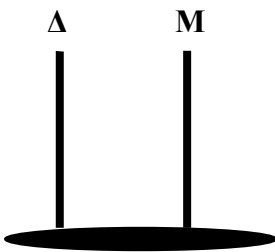


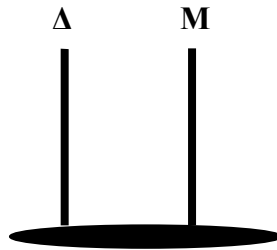


Όνομα: \_\_\_\_\_

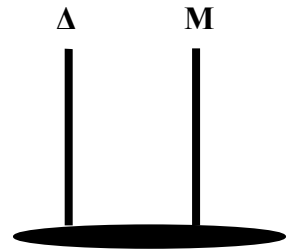
- Σχηματίζω τους αριθμούς στους άβακες βάζοντας μια κόκκινη μπίλια για κάθε Δεκάδα και μια πράσινη μπίλια για κάθε Μονάδα:



$10+10+10+6=.....$



$10+ 10+10+0=.....$



$10+10+2=.....$

- Ανεβαίνω ένα-ένα:

8 \_ \_ \_ \_

38 \_ \_ \_ \_

26 \_ \_ \_ \_

17 \_ \_ \_ \_

46 \_ \_ \_ \_



- Κατεβαίνω ένα - ένα:

21 \_ \_ \_ \_

42 \_ \_ \_ \_

14 \_ \_ \_ \_

32 \_ \_ \_ \_

51 \_ \_ \_ \_

- Υπολογίζω και συμπληρώνω τους αριθμούς που λείπουν:

$9 + 5 = \underline{\quad}$       $18 + 4 = \underline{\quad}$       $26 + 3 = \underline{\quad}$       $35 + 6 = \underline{\quad}$

$14 - 8 = \underline{\quad}$       $23 - 9 = \underline{\quad}$       $32 - 4 = \underline{\quad}$       $45 - 8 = \underline{\quad}$

$4 + \underline{\quad} = 10$       $6 + \underline{\quad} = 11$       $8 - \underline{\quad} = 2$       $9 - \underline{\quad} = 3$

$14 + \underline{\quad} = 20$       $16 + \underline{\quad} = 19$       $15 - \underline{\quad} = 11$       $17 - \underline{\quad} = 15$