



Όνομα: \_\_\_\_\_

## Πολλαπλασιασμός (φορές )


Κάθε βάρκα έχει 2 πανιά. Πόσα είναι όλα τα πανιά;

$2 + 2 + 2 + 2 = 8$  πανιά  
 1 φορά      2 φορές      3 φορές      4 φορές

ή

4 φορές βλέπω το 2 = 8 πανιά

- Κάθε σκυλάκι κρατάει 4 μπαλόνια . Πόσα είναι όλα τα μπαλόνια ;




\_\_\_ + \_\_\_ = \_\_\_

ή

\_\_\_ φορές βλέπω το \_\_\_ = \_\_\_

- Κάθε αυτοκίνητο έχει 3 επιβάτες . Πόσοι είναι όλοι οι επιβάτες ;



\_\_\_ + \_\_\_ + \_\_\_ = \_\_\_


ή

\_\_\_ φορές βλέπω το \_\_\_ = \_\_\_



Όνομα: \_\_\_\_\_

- Κάθε καλάθι έχει 3 κοτοπουλάκια. Πόσα είναι όλα τα κοτοπουλάκια;




$$\underline{\quad} + \underline{\quad} = \underline{\quad}$$

ή

$$\underline{\quad} \text{ φορές βλέπω το } \underline{\quad} = \underline{\quad}$$

- Κάθε παγωτό έχει 2 μπάλες. Πόσες μπάλες έχουν όλα τα παγωτά;




$$\underline{\quad} + \underline{\quad} + \underline{\quad} + \underline{\quad} + \underline{\quad} = \underline{\quad}$$

ή

$$\underline{\quad} \text{ φορές βλέπω το } \underline{\quad} = \underline{\quad}$$

- Κάθε λεωφορείο έχει 5 επιβάτες. Πόσοι είναι όλοι οι επιβάτες;



$$\underline{\quad} + \underline{\quad} + \underline{\quad} = \underline{\quad}$$

ή

$$\underline{\quad} \text{ φορές βλέπω το } \underline{\quad} = \underline{\quad}$$