



Όνομα: _____

- Να γράψεις με λέξεις τους αριθμούς :

12 _____

16 _____

27 _____

50 _____

26 _____

34 _____

45 _____

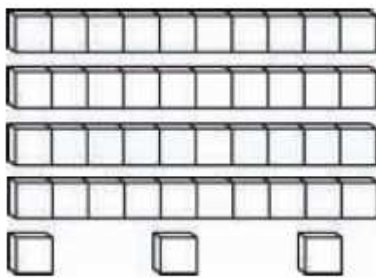
39 _____

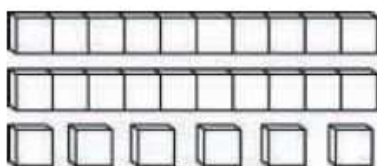

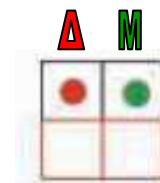
- Κατεβαίνω την αριθμογραμμή ένα ένα από το :

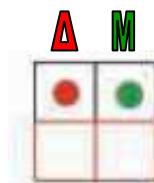
45

32

- Μετρώ τα κυβάκια και υπολογίζω το άθροισμά τους :









Όνομα: _____

• **Λογαριάζω:**

$10 + 5 = \dots\dots$

$20 + 9 = \dots\dots$

$10 + 10 + 8 = \dots\dots$

$30 + 1 = \dots\dots$

$10 + 10 + 10 + 6 = \dots\dots$

$40 + 7 = \dots\dots$

$4 + 3 + 2 + 1 = \underline{\quad}$

$7 + \underline{\quad} = 9$

$3 + 3 + 2 = \underline{\quad}$

$2 + \underline{\quad} = 8$

| | | | | |
|------------|------------|------------|------------|------------|
| 3 | 4 | 2 | 2 | 3 |
| 2 | 2 | 1 | 0 | 0 |
| <u>+ 3</u> | <u>+ 1</u> | <u>+ 2</u> | <u>+ 4</u> | <u>+ 3</u> |

• **Βρίσκω πόσα είναι όλα (με ποδαράκια):**

$7 + 9 = \underline{\quad}$

$8 + 5 = \underline{\quad}$

$7 + 4 = \underline{\quad}$

$6 + 8 = \underline{\quad}$

$9 + 4 = \underline{\quad}$

$8 + 8 = \underline{\quad}$