

**ΕΠΙΧΡΗΜΑΤΙΚΟ ΔΙΑΓΩΝΙΣΜΑ ΣΤΗΝ**  
**ΙΣΤΟΡΙΑ-3η ΕΝΟΤΗΤΑ**  
**Κεφάλαια 10-18**

Ημερομηνία:  
Τάξη:

Όνομα:  
Επίθετο:

**ΑΣΚΗΣΕΙΣ**

**1. Τοποθετώ αριθμούς μπροστά από τα ιστορικά γεγονότα για να δείξω τη σειρά που έγιναν, αρχίζοντας από το παλαιότερο στο νούμερο 1.**

- ... Μάχη του Πέτα
- ... Δολοφονία του Ιωάννη Καποδίστρια στο Ναύπλιο
- ... Έξοδος του Μεσολογγίου
- ... Α' Εθνοσυνέλευση
- ... Τα σύνορα της Ελλάδας μεγαλώνουν στη γραμμή Αμβρακικού κόλπου-Παγασητικού κόλπου
- ... Ναυμαχία στο Ναυαρίνο
- ... Μάχη στο Φάληρο και θάνατος του Γεώργιου Καραϊσκάκη
- ... Μάχη στο Μανιάκι και θάνατος Παπαφλέσσα
- ... Μάχη στο Κεφαλόβρυσο και θάνατος Μάρκου Μπότσαρη
- ... Υπογραφή στο Λονδίνο της πολιτικής ανεξαρτησίας της Ελλάδας με σύνορά της τη γραμμή Αχελώου-Σπερχειού ποταμού



## 2. Κυκλώνω τη σωστή απάντηση στις παρακάτω ερωτήσεις:

A) Το αποτέλεσμα της μάχης του Πέτα ήταν:

- 1) Η ήττα των Τούρκων
- 2) Να χάσουν οι Έλληνες
- 3) Να χάσουν και οι δύο πλευρές πολύ στρατό

B) Τη νύχτα στις .....ο Μάρκος Μπότσαρης σκοτώθηκε από εχθρικό βόλι, όταν έκανε γιουρούσι στο οθωμανικό στρατόπεδο με λιγοστούς Σουλιώτες:

- 1) 8 Αυγούστου 1821
- 2) 8 Αυγούστου 1822
- 3) 8 Αυγούστου 1823

Γ) Ο Μάρκος Μπότσαρης τάφηκε με τιμές:

- 1) Στο Μεσολόγγι
- 2) Στην Αθήνα
- 3) Στην Τριπολιτσά



Δ) Οι αιγυπτιακές δυνάμεις με αρχηγό τον Ιμπραήμ Πασά αφού κατέστρεψαν..... κινήθηκαν προς την Πελοπόννησο, όπου και αποβιβάστηκαν στη Μεθώνη:

- 1) Τις Σπέτσες και την Κάσο
- 2) Την Ύδρα και τα Ψαρά
- 3) Τα Ψαρά και την Κάσο

Ε) Την ίδια περίοδο οι σχέσεις μεταξύ των επαναστατημένων Ελλήνων :

- 1) Ήταν εξαιρετικές
- 2) Ήταν άσχημες από τις εμφύλιες διαμάχες
- 3) Είχαν επανέλθει σε πολύ καλό επίπεδο καθώς είχαν λυθεί οι διαφορές των παλαιότερων χρόνων



ΣΤ) Η δεύτερη πολιορκία του Μεσολογγίου κράτησε:

- 1) Σχεδόν ένα χρόνο
- 2) Σχεδόν δύο χρόνια
- 3) Δύο χρόνια ακριβώς

Ζ) Το Μεσολόγγι βρισκόταν σε μία θέση:

- 1) Η οποία δεν ήταν η ιδανική για να μπορέσουν να οχυρωθούν αποτελεσματικά οι Έλληνες υπερασπιστές
- 2) Με πολλά φυσικά πλεονεκτήματα
- 3) Με πολλά φυσικά πλεονεκτήματα τα οποία όμως δεν είχαν σημασία λόγω της απουσίας τείχους

Η) Η έξοδος του Μεσολογγίου έγινε τη νύχτα της :

- 1) 10<sup>ης</sup> Απριλίου 1825
- 2) 10<sup>ης</sup> Απριλίου 1826
- 3) 10<sup>ης</sup> Απριλίου 1827




Θ) Στη μάχη στο Φάληρο η κυβέρνηση είχε αναθέσει την αρχηγία των ελληνικών δυνάμεων:

- 1) Στους Άγγλους αξιωματικούς Κόχραν και Κόδριγκτον
- 2) Στους Άγγλους αξιωματικούς Κόχραν και Τσώρτς
- 3) Στον Γεώργιο Καραϊσκάκη

Ι) Στη μάχη στο Φάληρο που ακολούθησε μετά το θάνατο του Γεωργίου Καραϊσκάκη:

- 1) Κέρδισαν οι ελληνικές δυνάμεις και προκάλεσαν μεγάλες απώλειες στους Τούρκους, παρόλο που η κατάσταση ήταν άσχημη λόγω του θανάτου του Καραϊσκάκη
- 2) Κέρδισαν οι Τούρκοι και έτσι διατήρησαν στην κατοχή τους την Ακρόπολη την οποία πολιορκούσαν οι Έλληνες
- 3) Κέρδισαν οι τουρκικές δυνάμεις προκαλώντας τρομακτικές απώλειες στους Έλληνες.



Κ) Η προσφορά των Φιλελλήνων στην ελληνική επανάσταση είχε να κάνει με:

- 1) Την προσφορά μεγάλων χρηματικών ποσών, ώστε οι Έλληνες αγωνιστές να μπορούν να αγοράζουν όπλα
- 2) Τη συμμετοχή όλων των Φιλελλήνων στις μάχες εναντίον των Τούρκων, όπως συνέβη και στη μάχη του Πέτα
- 3) Ήταν ποικίλη και προσπαθούσε ο κάθε ένας να βοηθήσει τους Έλληνες όπως μπορούσε

Λ) Όσον αφορά τον αγώνα των Ελλήνων, η Αμερική:

- 1) Περιορίστηκε στο να στείλει κυρίως ανθρωπιστική βοήθεια
- 2) Ήταν εναντίον της ελληνικής Επανάστασης, όπως και οι υπόλοιπες Μεγάλες Δυνάμεις της περιόδου αυτής
- 3) Έστειλε αρκετούς Φιλέλληνες να πολεμήσουν στις μάχες εναντίον των Τούρκων, λόγω και της εμπειρίας τους από την Αμερικανική Επανάσταση



M) Η Α΄ Εθνοσυνέλευση έγινε :

- 1) Στην Επίδαυρο τον Μάρτιο του 1821
- 2) Στην Επίδαυρο τον Δεκέμβριο του 1821
- 3) Στο Άστρος της Αρκαδίας το 1823

N) Όταν έγινε η Γ΄ Εθνοσυνέλευση στην Τροιζήνα:

- 1) Οι πολιτικές αντιπαραθέσεις συνεχίζονταν αλλά οι νίκες των Ελλήνων στα πεδία των μαχών είχαν δημιουργήσει μια ασφάλεια σχετικά με την απελευθέρωση
- 2) Είχαν τελειώσει πλέον οι πολιτικές αντιπαραθέσεις και η διχόνοια που υπήρχε μεταξύ των Ελλήνων
- 3) Οι στρατιωτικές επιχειρήσεις βρίσκονταν σε κρίσιμο σημείο και συνεχίζονταν οι πολιτικές αντιπαραθέσεις

Ξ) Ο Ιωάννης Καποδίστριας φτάνοντας στο Ναύπλιο βρήκε μια χώρα :

- 1) Φτωχή μεν αλλά έχοντας πάρει πίσω όλα τα εδάφη της από τους Τούρκους μετά από σχεδόν 400 χρόνια σκλαβιάς
- 2) Φτωχή και με εξαθλιωμένους κατοίκους
- 3) Φτωχή αλλά με ανανεωμένο το ηθικό καθώς πλέον είχαν καθοριστεί τα σύνορα της από τις Μεγάλες Δυνάμεις


Ο) Κάποιες από τις ενέργειες του Ιωάννη Καποδίστρια ήταν:

- 1) Εισήγαγε την καλλιέργεια της πατάτας και έδωσε ιδιαίτερη βαρύτητα στη βασική εκπαίδευση των Ελλήνων
- 2) Στήριξε τη γεωργία της χώρας, εισήγαγε την καλλιέργεια της πατάτας και διατήρησε τα τουρκικά γρόσια ώστε να υπάρχει ενιαίο νόμισμα για το εμπόριο της χώρας
- 3) Έδωσε πολύ μεγάλη βαρύτητα στη γεωργική και στρατιωτική ανάπτυξη της χώρας χωρίς όμως να αφιερώσει τον ίδιο χρόνο για την ανάπτυξη της βασικής εκπαίδευσης των Ελλήνων



Π) Η τελευταία μάχη της Επανάστασης δόθηκε στην Πέτρα της Βοιωτίας τον Σεπτέμβριο του:

- 1) 1828
- 2) 1829
- 3) 1830



Ρ) Ο Ιωάννης Καποδίστριας δολοφονήθηκε στο Ναύπλιο στις....., με αποτέλεσμα στη χώρα να ξεσπάσει αναρχία:

- 1) 27 Σεπτεμβρίου 1831
- 2) 17 Σεπτεμβρίου 1832
- 3) 27 Σεπτεμβρίου 1832

Σ) Η πολιτική ανεξαρτησία της Ελλάδας υπογράφηκε:


- 1) Στο Παρίσι το 1830 από τις Αγγλία, Γαλλία, Ρωσία
- 2) Στο Λονδίνο το 1830 από τις Αγγλία, Γαλλία, Ρωσία
- 3) Στο Λονδίνο το 1832 από τις Αγγλία, Γαλλία, Ρωσία

Τ) Το 1832 τα σύνορα της Ελλάδας διευρύνθηκαν στη γραμμή :

- 1) Αχελώου-Σπερχειού ποταμού
- 2) Παγασητικού-Αμβρακικού κόλπου
- 3) Αχελώου-Αλιάκμονα ποταμού



**3.Σημειώνω κάτω από την κάθε εικόνα το πρόσωπο που απεικονίζεται από την περίοδο της ελληνικής Επανάστασης:**



.....  
.....



.....  
.....




.....  
.....



.....  
.....



.....  
.....



.....  
.....




.....  
.....



.....  
.....



.....  
.....



.....  
.....





